

熊本県中学校社会科テスト問題（1年）

守っていただきたいこと

1 次の点にご協力ください。

生徒のみなさんへ

- (1) この問題用紙および解答用紙に組・番号・名前を記入し、テスト終了後、テスト監督の先生にわたしてください。
- (2) 他の中学校の生徒や、他の営利を目的とする教育機関等に対して、問題の内容を2月末日以前に話さないようにしてください。

先生方へ

- (1) テスト監督の先生は、解答用紙および問題用紙にも生徒の組・番号・名前が記入されているのを確認した後、社会科主任の先生にわたしてください。
 - (2) 社会科主任の先生は、**2月末日**まで、問題用紙・解答用紙・標準解答を保管してください。
- 2 このテスト問題は、学力を客観的かつ公正に評価するためのものです。本テストの目的を理解し、不正の防止にご協力ください。
- 3 なお、このテスト問題や解答等は、本会のWebページ (<https://kumamoto-chushaken.com/>)に掲載しています（4月以降にアップ）のでご活用ください。

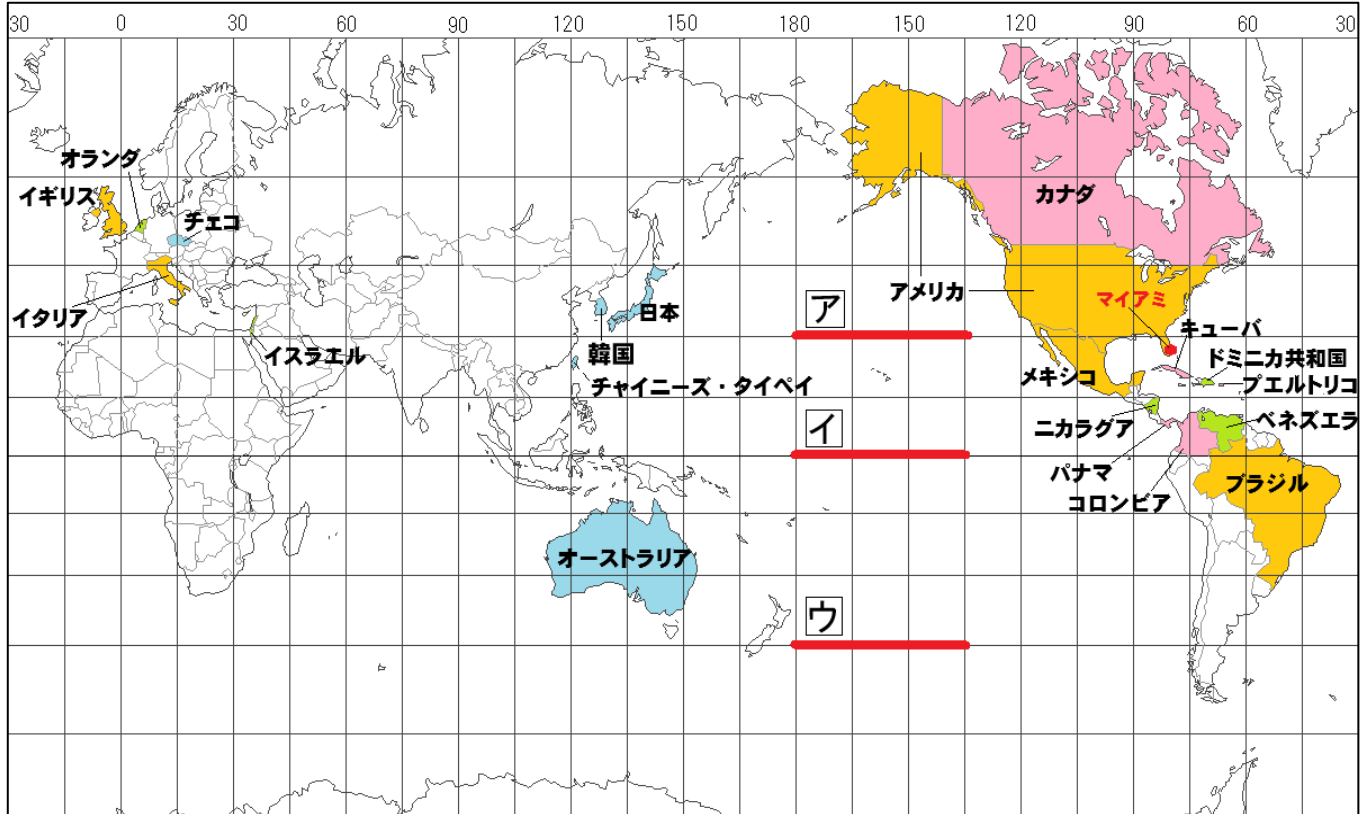
1 次の各問いに答えなさい。

1 1表・2図を見て、次の(1)～(6)の各問いに答えなさい。

1表 2026 ワールドベースボールクラシック予選リーグ出場国や地域

グループA	グループB	グループC	グループD
プエルトリコ	アメリカ	日本	ベネズエラ
キューバ	メキシコ	オーストラリア	ドミニカ共和国
カナダ	イタリア	韓国	オランダ
パナマ	イギリス	チェコ	イスラエル
コロンビア	ブラジル	チャイニーズ・タイペイ (台湾)	ニカラグア

2図



(1) 日本と同じ緯度に位置する国として誤っているものを、次のア～エから一つ選び、記号で答えなさい。

ア 韓国 イ オランダ ウ アメリカ エ イタリア

(2) 3図は、オーストラリアとブラジルの国旗である。それぞれの国旗に南十字星が描かれている理由を、2図を参考にし、簡単に説明しなさい。

(3) グループCのチェコのように、国土が海と接している部分がない国を何というか、書きなさい。

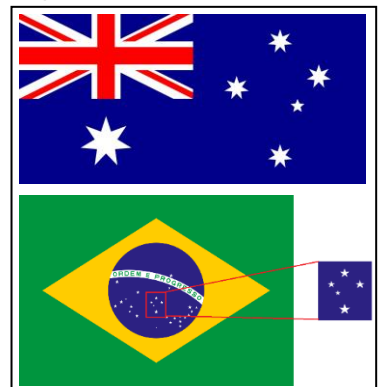
(4) グループA～Dの国々がいずれも属さない州を書きなさい。

(5) ア～ウを、実際の距離が長いものから順に並べ、記号で答えなさい。

(6) この大会の決勝戦が現地時間の3月17日午後8時よりアメリカ・マイアミ（西経75度）で行われるとき、東京は何日何時になるか、次のア～エから一つ選び、記号で答えなさい。ただしサマータイムは考えないものとする。

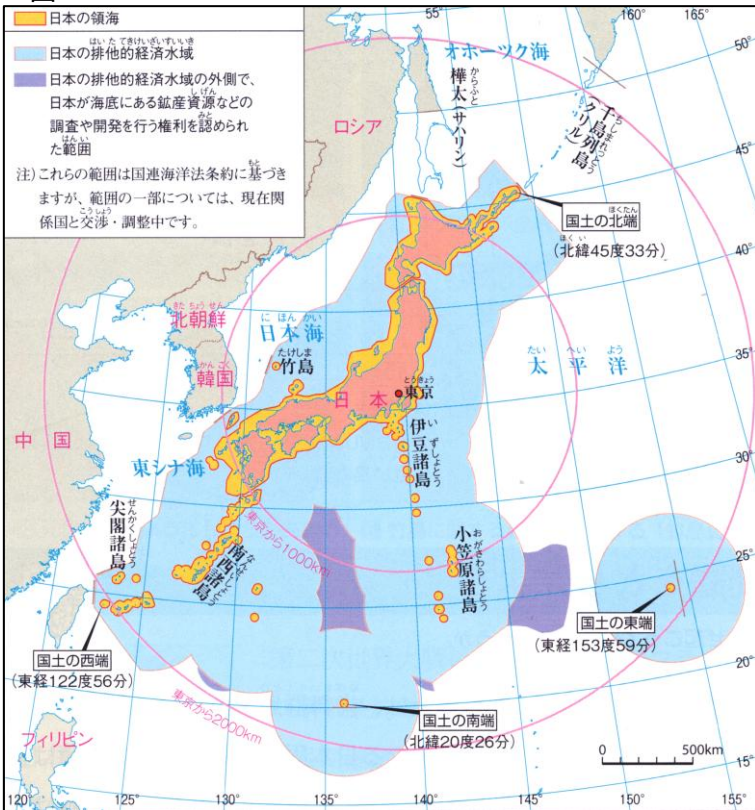
ア 3月16日午後6時 イ 3月17日午前6時 ウ 3月18日午前10時 エ 3月18日午後10時

3図




2 4・5図を見て、次の(1)・(2)の各問いに答えなさい。

4 図



5 図 沖ノ鳥島の工事前の様子




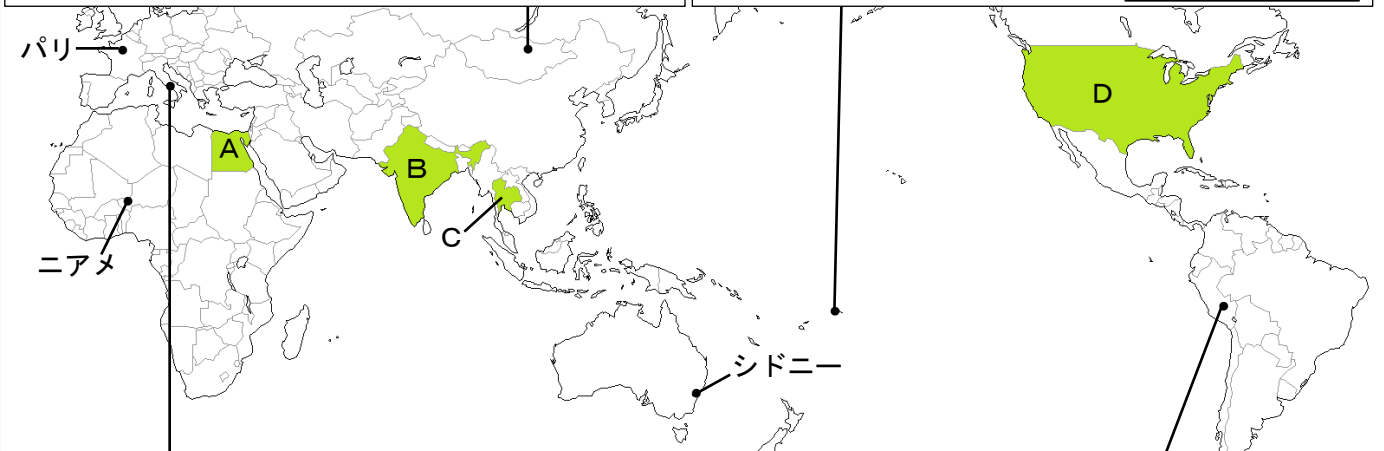


(1) 沖ノ鳥島では1987年以降、護岸工事が行われている。この護岸工事を行わなかった場合、日本にはどのような損失があると考えられるか、簡単に説明しなさい。

(2) 国土の北端に当たる島を、次の文の下線部 a ~ d から一つ選び、記号で答えなさい。また、次の文が示す日本固有の領土の総称を何というか、書きなさい。

北海道の a 択捉島, b 国後島, c 色丹島, d 歯舞群島はロシアが不法に占拠している。1992 年からは「ビザなし交流」が始まり、日本人の元島民やその家族と、現島民のロシア人との相互訪問が行われるようになったが、2020 年から中止された。現在、日本はロシアに対して返還を求め続けている。

2 6図を見て、次の各問いに答えなさい。

6図 各都市(国)の気候と暮らし

<p>ウランバートル(モンゴル)は、一年を通して降水量が少ない X 帯に属する。家畜をつれて季節ごとに移動して生活をする人々もいる。</p>	<p>アピア(サモア)は、一年を通して気温が高い。伝統的な住居は、木の支柱とやしの葉などの屋根だけで、かべがない。</p> 
	
<p>ローマ(イタリア)は、夏の降水量が少なく乾燥する。住居は暑い夏を快適に過ごせる工夫がされている。</p> 	<p>クスコ(ペルー)は、同じ緯度にある場所よりも気温が低くなる。アンデス山脈の高地で特色ある生活を営んでいる。</p> 

1 **X** に当てはまる語句を書きなさい。また、**Y** に当てはまる写真を、次のア～ウから一つ選び、記号で答えなさい。

ア



イ

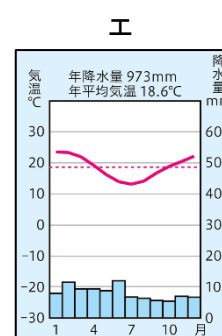
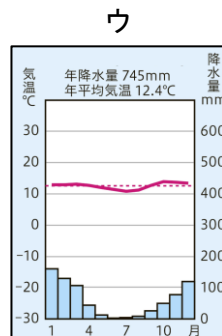
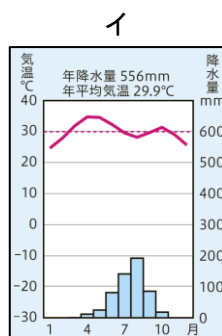
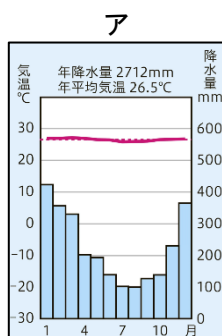


ウ



2 アピアについて、次の(1)・(2)の各問いに答えなさい。

(1) 次のア～エは、ニアメ・シドニー・アピア・クスコの雨温図のいずれかである。アピアに当てはまる雨温図を、次のア～エから一つ選び、記号で答えなさい。



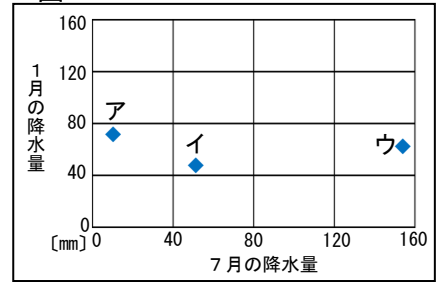
(2) アピアやその周辺の様子として誤っているものを、次のア～エから一つ選び、記号で答えなさい。

- ア 緑が一年中生い茂る熱帯雨林が広がる。
- イ タイガと呼ばれる針葉樹の森林が広がる。
- ウ 沿岸の浅い海には、サンゴ礁が広がる。
- エ 河口や入り江にマングローブが広がる。

3 ローマについて、次の(1)・(2)の各問いに答えなさい。

(1) 7図のア～ウは、同じ温帯であるが気候が異なる、パリ・ローマ・東京の1月と7月の降水量を示したものである。ローマに当てはまるものを、ア～ウから一つ選び、記号で答えなさい。

7図



(2) 下線部について述べた、次の文の **P** ~ **R** に当てはまる語句の組み合わせとして正しいものを、右のア～エから一つ選び、記号で答えなさい。

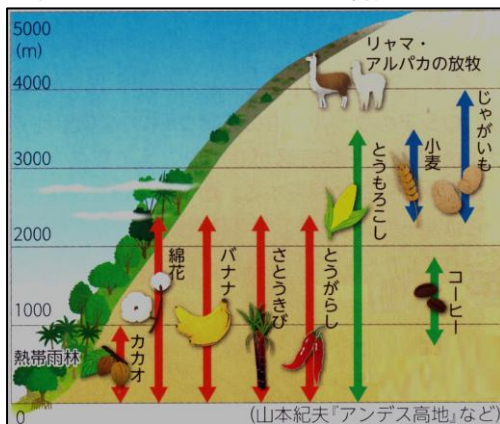
夏の強い **P** をさえぎり、涼しく過ごせるように、家のかべには **Q** が使われており、窓は **R** く、外側に木で造られたとびらがついている。

	P	Q	R
ア	風	石	大き
イ	日差し	木	大き
ウ	風	木	小さ
エ	日差し	石	小さ

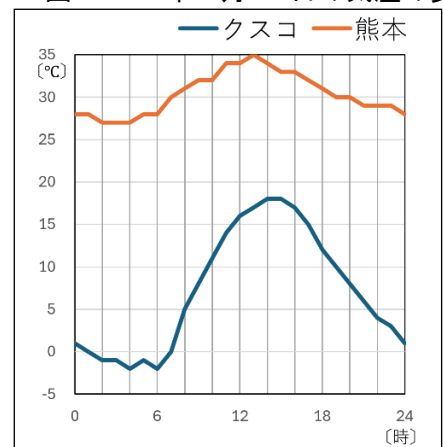
4 クスコについて、次の(1)・(2)の各問いに答えなさい。

8図 アンデス山脈の土地利用

9図 ポンチョ



10図 2025年7月25日の気温の変化


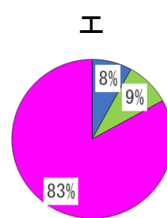
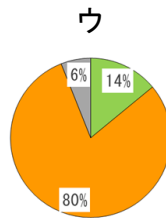
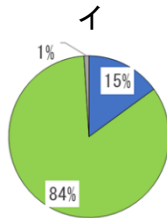
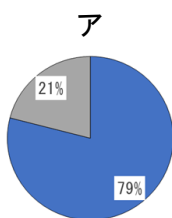


(1) 8図について述べた文の **①** ・ **②** に当てはまる数字や語句を、それぞれ書きなさい。

アンデス山脈の **①** m付近では、リャマやアルパカなどの放牧が行われている。その他の土地でも、**②** によって変わる気候を利用し、じゃがいもや小麦、バナナなどのさまざまな作物がつけられている。

(2) 9図のような脱ぎ着がしやすい服を着用する理由を、10図を参考にして、簡単に説明しなさい。

5 次のア～エは、A～Dの各国の主な宗教人口の割合を示している。A・Cに当てはまるものを、それぞれ一つずつ選び、記号で答えなさい。

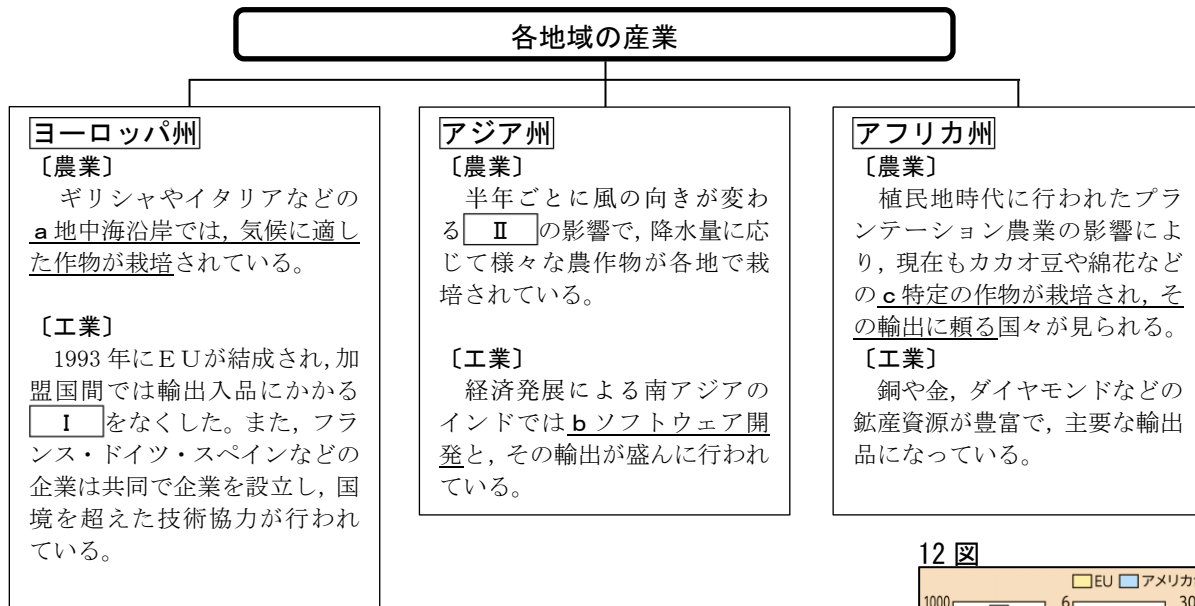


6 11図は、ある宗教を信仰する人々が安心して食事をできるようにするために、飲食店などで表示されるものである。この宗教の特徴として正しいものを、次のア～ウから一つ選び、記号で答えなさい。
 ア 経を经典として、週に一度は寺院を訪れ、祈りをささげる。
 イ 聖書を经典として、日曜日には教会に行き礼拝をする。
 ウ コーランを经典として、一日5回聖地に向かって礼拝をする。

11図 飲食店のハラール認証マーク



3 次のヨーロッパ州、アジア州、アフリカ州を産業の視点でまとめたものを見て、各問いに答えなさい。



1 ヨーロッパ州について、次の(1)～(3)の各問いに答えなさい。

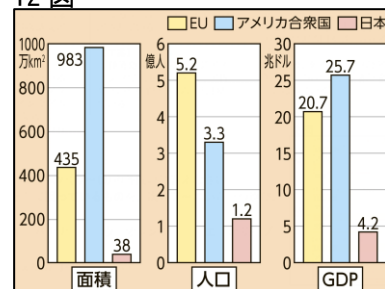
(1) 下線部 a として誤っているものを、次のア～エから一つ選び、記号で答えなさい。

- ア ぶどう イ バナナ ウ オレンジ エ オリーブ

(2) I に当てはまる語句を書きなさい。

(3) ヨーロッパの国々が経済協力を行う目的について、12図を参考にし、解答欄の書き出しに続けて、簡単に説明しなさい。

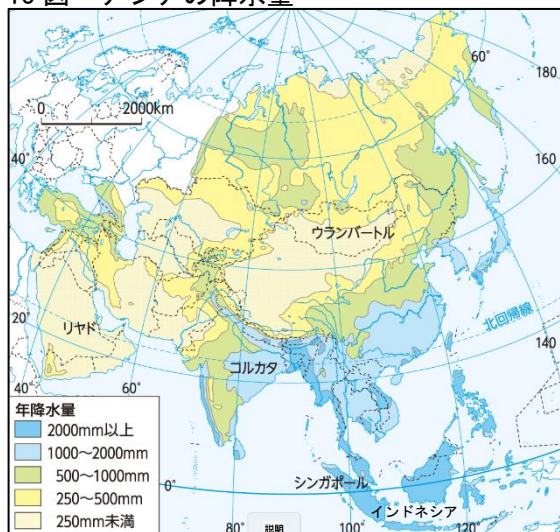
12 図



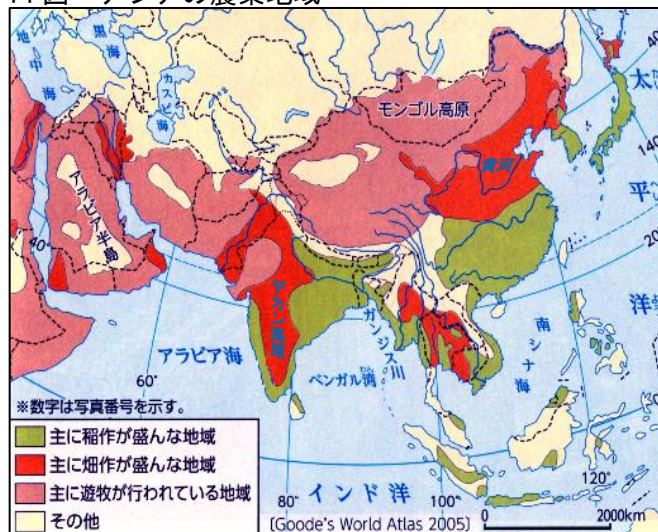
2 アジア州について、次の(1)～(3)の各問いに答えなさい。

(1) II に当てはまる語句を書きなさい。また、13・14図から読み取れる内容として誤っているものを、次のア～エから一つ選び、記号で答えなさい。

13 図 アジアの降水量



14 図 アジアの農業地域

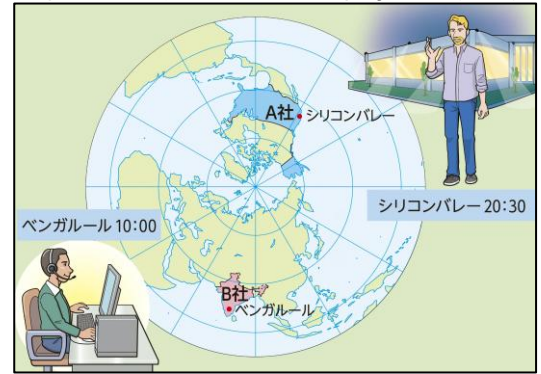


- ア モンゴル高原では、年降水量は250mm未満となっている地域が多く、主に遊牧が行われている。
 イ 黄河流域やデカン高原では、年降水量は500～1000mmの地域が多く、主に畑作が行われている。
 ウ ガンジス川流域では、年降水量は1000mm以上の地域が多く、主に稲作が行われている。
 エ シンガポールやインドネシアでは年降水量は250mmと少なく、主に畑作が行われている。

(2) 下線部 **b** を含むコンピュータやインターネット関係の産業を何というか、書きなさい。

(3) 15図のように、(2)の産業を主とするアメリカの企業が公用語を英語とするインドにコールセンターを置く理由を、解答欄の書き出しに続けて、簡単に説明しなさい。

15図 アメリカとインドの仕事のやり取り



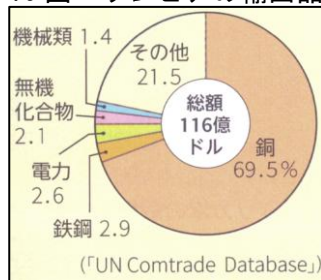
3 アフリカ州について、次の(1)・(2)の各問いに答えなさい。

(1) 下線部 **c** のような経済を何というか、書きなさい。

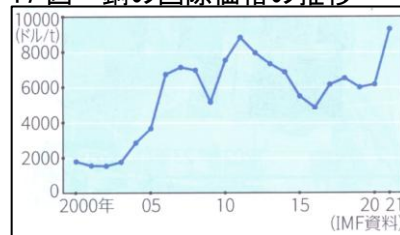
(2) 次の文は、(1)が抱える課題について述べたものである。16~18図を参考にして、①はX・Yから一つ選び、記号で答えなさい。また、 に当てはまる語句を書きなさい。

ザンビアの主な輸出品は銅であり、銅は国際価格の変動が① (X 大きい ・ Y 小さい) ため、国の収入が しない。

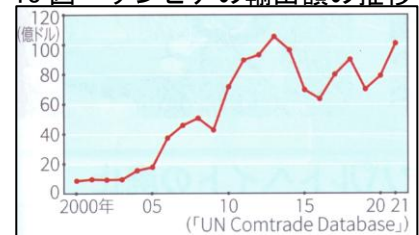
16図 ザンビアの輸出品



17図 銅の国際価格の推移



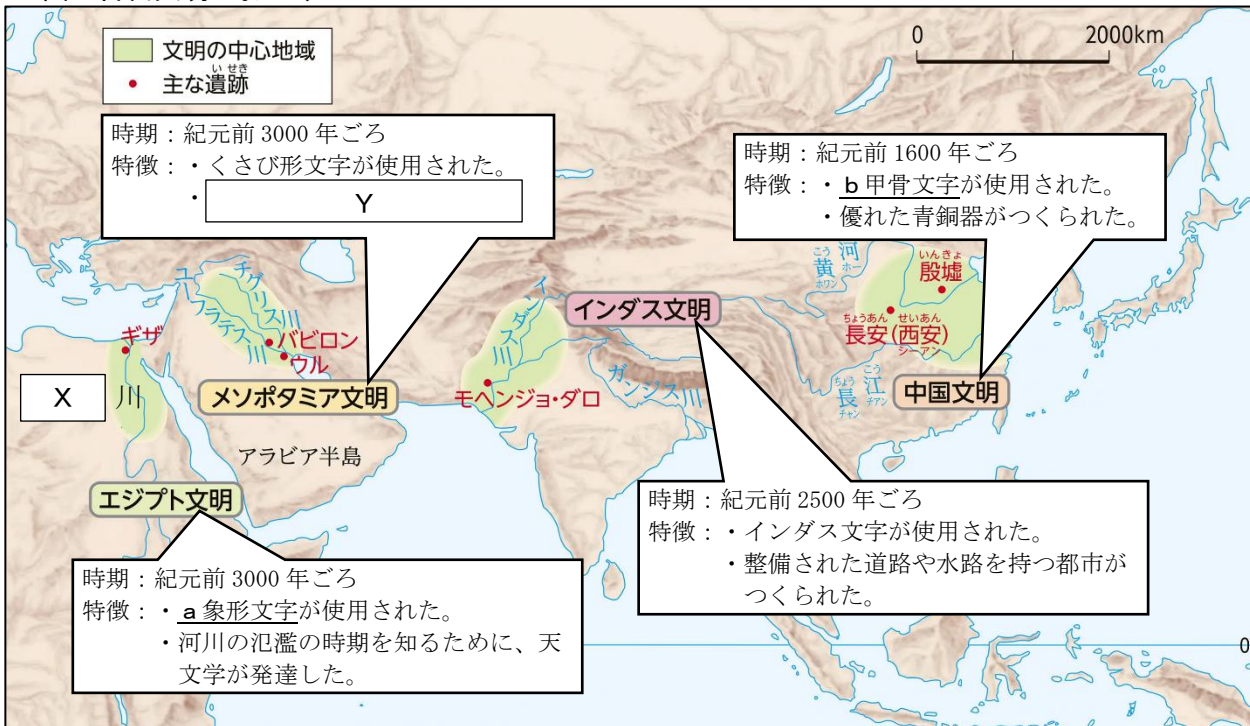
18図 ザンビアの輸出額の推移



4 次の各問いに答えなさい。


1 19 図を見て、次の(1)～(3)の各問いに答えなさい。

19 図 古代文明のおこり



(1) X に当てはまる語句を書きなさい。

(2) 下線部 a・b を表す写真を、次のア～エからそれぞれ一つずつ選び、記号で答えなさい。



(3) Y に当てはまる内容として正しいものを、次のア～エから 2 つ選び、記号で答えなさい。

- ア 北方の遊牧民族の侵入を防ぐため、万里の長城が整備された。
- イ 神殿を中心として城壁で囲まれた都市が各地に造られた。
- ウ 国王は神としてあがめられ、巨大な石造りの神殿や、ピラミッドが築かれた。
- エ 月の満ち欠けに基づく太陰暦や時間を 60 進法で測ることが考え出された。

2 20・21 図を見て、次の(1)・(2)の各問いに答えなさい。

20 図 縄文時代のむらの生活の様子



21 図 弥生時代のむらの生活の様子



(1) 共通して見られる、○ で囲んだ住居を何というか、書きなさい。

(2) 20 図から 21 図のように、むらに物見やぐらや堀、塀がつけられた理由を、22 図を参考にし、「食料」の語句を使って、簡単に説明しなさい。

22 図 矢を受けた人骨



3 資料A～Cを見て、次の(1)～(3)の各問いに答えなさい。

資料A 「魏志」倭人伝

資料B 「宋書」倭国伝

資料C 「漢書」地理志

もとは男子を王としていたが、乱がおこり戦いが何年も続いた。人々は一人の女子を王とした。その名を **P** という。

私の祖先は、自らよろいやかぶとを身につけ、山や川を駆けめぐり、東は55国、西は66国、さらに海をわたって、95国を平定した。

楽浪郡の海のかなたに倭人がいて、100以上の国に分かれている。その中には定期的に漢に朝貢する国もある。

(1) 資料Aの **P** に当てはまる人物名を、書きなさい。

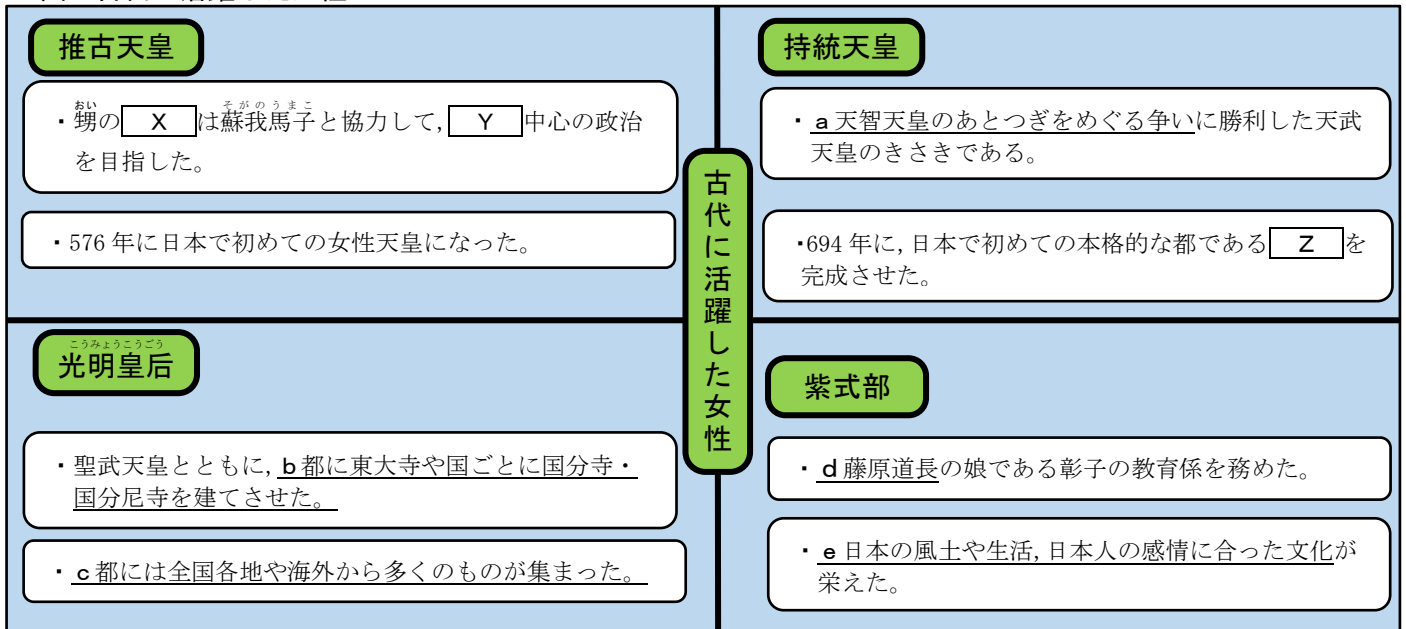
(2) 次の文は、資料Cの下線部の目的について述べたものである。**Q** に当てはまる内容を「権力」・「地位」の2語を使って、簡単に書きなさい。

中国の皇帝の **Q** ため。

(3) 資料A～Cを年代の古い順に並べ、記号で答えなさい。

5 23図を見て、次の各問いに答えなさい。

23図 古代に活躍した女性



1 **X** の人物名を書きなさい。また、**Y** に当てはまる語句を書きなさい。

2 下線部 a を何というか、書きなさい。

3 **Z** に当てはまる語句を、次のア～エから一つ選び、記号で答えなさい。

ア 藤原京 イ 長岡京 ウ 平城京 エ 平安京

4 下線部 b の目的を、24表を参考にし、「不安」の語句を使って、簡単に説明しなさい。

24表

728年	洪水が起こり、都が被害を受ける。
733年	各地でききんが起る。
734年	畿内を中心に、大地震が起る。
735年	天然痘とよばれる感染症が広がる。

5 下線部 c について、次の(1)・(2)の各問いに答えなさい。

(1) 農民が税として納めたものを 25 図から抜き出して書きなさい。また、納めたものは 26 図の人々の負担の種類のどれに当てはまるか、一つ選び、書きなさい。

25 図 当時の都があった場所から出土した木簡



26 図 人々の負担

種類	内容
租	稲の収穫の約 3%
調	絹や魚などの特産物
庸	労役の代わりに麻の布を約 8 m
雑徭	国司の下で 1 年に 60 日以内の労役
兵役	衛士 (都の警備) : 1 年 防人 (九州北部の警備) : 3 年

(2) この当時、シルクロードを經由して集まったものが宝物として納められた建物を、次のア～ウから一つ選び、記号で答えなさい。また、その建物の名称を書きなさい。

ア



イ

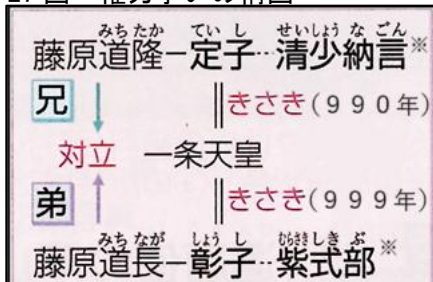


ウ



6 下線部 d は、どのようにして政治の実権を握ったか、27・28 図を参考にして、簡単に説明しなさい。

27 図 権力争いの構図



※清少納言は 993 年、紫式部は 1005 年から教育係として定子、彰子それぞれに仕え始めた。

28 図 藤原道長が摂政になるまで

年	できごと
966	生まれる
988	①娘の彰子が生まれる
999	②彰子が一条天皇にとつぐ
1008	③彰子が男子(後一条天皇)を生む
1016	④孫の後一条天皇が位につき、その摂政となる (天皇が成人の場合は関白)

29 図




7 下線部 e を代表する源氏物語は、29 図のような文字で書かれた。

この文字を何というか、書きなさい。

8 日本で最初の貨幣である富本銭と最も関係の深い人物を、23 図の古代に活躍した女性の中から一人選んで、書きなさい。

6 太郎さんは「平安時代末期から鎌倉時代における朝廷の影響力の低下」というテーマで、カードⅠ～Ⅴのように年代順にまとめた。カードを見て、次の各問いに答えなさい。

Ⅰ 朝廷に対する北関東での反乱



北関東で起こった **X** による朝廷への反乱を平貞盛がしずめる。

Ⅱ 朝廷内部の対立(保元の乱)

	勝者	敗者
天皇家	後白河天皇	崇徳上皇
貴族	藤原忠通	藤原頼長
平氏	平清盛	平忠正
源氏	源義朝	源為朝

上皇と天皇の対立による争いに、天皇の子孫であった源氏と平氏の **Y** 団も参加し、活躍する。

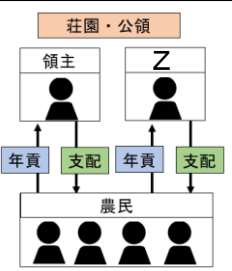
Ⅲ 朝廷内部における

a 平氏の影響力の高まり

年	公卿補任年表					
	藤原氏	他氏	平氏	藤原氏	他氏	平氏
1159年	●	●	●	●	●	●
1167年	●	●	●	●	●	●
1172年	●	●	●	●	●	●


b 平清盛は、太政大臣になって朝廷内部で大きな影響力をもち、最初の **Y の政権が成立する。**

Ⅳ 朝廷と幕府の二重支配



各地の荘園・公領には領主がおり、農民は年貢を納めていた。1185年に幕府が荘園・公領ごとに **Z** を置いたことで農民は二重の支配を受けるようになった。

Ⅴ 朝廷による幕府への反乱



朝廷に協力的だった第3代将軍の源実朝が暗殺され、源氏の将軍が途絶えると、後鳥羽上皇は、幕府を倒そうと、**c 承久の乱**を起したが、幕府軍に敗北し、隠岐に流された。

- X** に当てはまる人物名を、次のア～ウから一つ選び、記号で答えなさい。
ア 藤原純友 イ 平将門 ウ 源義家
- Y** に当てはまる語句を、漢字2字で書きなさい。
- 下線部 a について、琵琶法師が武士や民衆に語り広めた軍記物を何というか、次のア～エから一つ選び、記号で答えなさい。
ア 新古今和歌集 イ 方丈記 ウ 徒然草 エ 平家物語
- 下線部 b が行ったこととして正しいものを、次のア～ウから一つ選び、記号で答えなさい。
ア 家来となった御家人の手柄に応じて、新たな領地や職を与えた。
イ 日宋貿易をすすめるために、瀬戸内海の航路を整備した。
ウ 奥州藤原氏を攻め滅ぼし、東日本の全域を支配下に置いた。
- Z** に当てはまる語句を、書きなさい。

6 下線部 c について、後鳥羽上皇が承久の乱を起こした理由を、30・31 図を参考にし、解答欄の書き出しに続けて、簡単に説明しなさい。

30 図 北条氏の動き

年	できごと
1199	源頼朝が急死する。
1200	源頼朝の重臣である梶原景時 ^{かじわらかげとき} を倒す。
1203	2代将軍源頼家の義父である比企能員 ^{ひきよしかず} を倒す。
1204	源頼家を暗殺する。
1205	源頼朝の重臣である畠山重忠 ^{はたけやましげただ} を倒す。
1213	侍所の長官である和田義盛 ^{わだよしもり} を倒す。

31 図 後鳥羽上皇の命令

近ごろ鎌倉では、幕府の命令であると言いながら、天下の政治を乱している。将軍とはいっても、まだ幼い。そのため北条義時は将軍家を利用しながら、勝手に政治を行っている。そればかりか自分の権威をほこり、朝廷の定めた法令を無視している。

7 太郎さんが作成した、32 図のカードはどこに入るか、次のア～エから一つ選び、記号で答えなさい。

- ア カードⅠとカードⅡの間
- イ カードⅡとカードⅢの間
- ウ カードⅢとカードⅣの間
- エ カードⅣとカードⅤの間

32 図

白河上皇による院政



白河天皇は、位を若い皇子にゆずって上皇となり、摂政や関白の力をおさえて政治を行う院政を始めた。

8 太郎さんは、朝廷の影響力の低下に関する 33 図を見つけた。P・Q に当てはまる語句を、それぞれ書きなさい。

33 図 「北条泰時消息文」

御成敗式目は、ものの道理を書いたものである。真実よりもその人の勢力の強さによって判決したりすることもあるので、あらかじめ P の基準を定めて、公平に P できるように、こまかく書いておいたのである。(朝廷の作成した) Q に比べれば、多くの人にわかりやすいように書いてある。