

熊本県中学校社会科テスト問題（2年）

守っていただきたいこと

- 1 次の点にご協力ください。

生徒のみなさんへ

- (1) この問題用紙および解答用紙に組・番号・名前を記入し、テスト終了後、テスト監督の先生にわたしてください。
- (2) 他の中学校の生徒や、他の営利を目的とする教育機関等に対して、問題の内容を2月末日以前に話さないようにしてください。

先生方へ

- (1) テスト監督の先生は、解答用紙および問題用紙にも生徒の組・番号・名前が記入されているのを確認した後、社会科主任の先生にわたしてください。
 - (2) 社会科主任の先生は、**2月末日**まで、問題用紙・解答用紙・標準解答を保管してください。
- 2 このテスト問題は、学力を客観的かつ公正に評価するためのものです。本テストの目的を理解し、不正の防止にご協力ください。
- 3 なお、このテスト問題や解答等は、本会のWebページ <https://kumamoto-chushaken.com/>に掲載しています（4月以降にアップ）のでご活用ください。

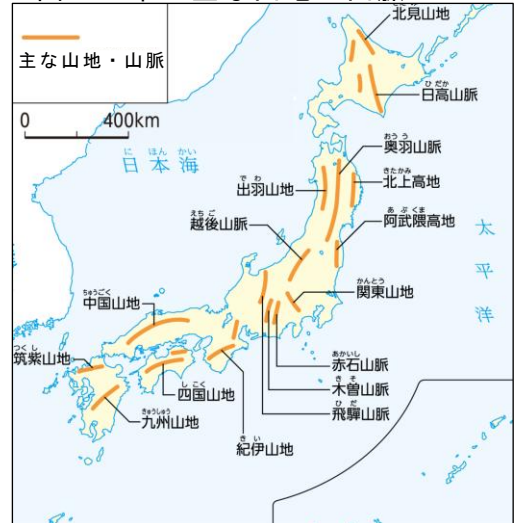
1 次の先生とみゆき・さとの会話文を読んで、下の各問いに答えなさい。

先生：今日は、日本の地域的特色の振り返りをします。印象に残っていることは何ですか。
 みゆき：a 山地が多いことが印象的です。生活や産業への影響が大きいなと思いました。
 さとし：b 日本列島が南北に長いため気候も多様で、それが c 第一次産業にも影響しました。
 先生：良い気づきですね。では、日本の課題は何でしょう？
 さとし：エネルギー問題が重要だと思いました。日本は資源を輸入に頼っているので、太陽光や風力、バイオマスなどの X エネルギーの導入がもっと必要だと思います。
 先生：その通りですね。d 工業製品の貿易にも関連しますね。
 みゆき：e 過疎化が進んでいることも気になりました。そのような地域では、f 防災活動の維持も難しくなるかもしれません。
 先生：重要な課題ですね。
 みゆき：しかし、情報通信技術が地方の課題解決につながると学び、面白いなと思いました。
 先生：g 交通や通信の発達は、地域のあり方を変えますよね。

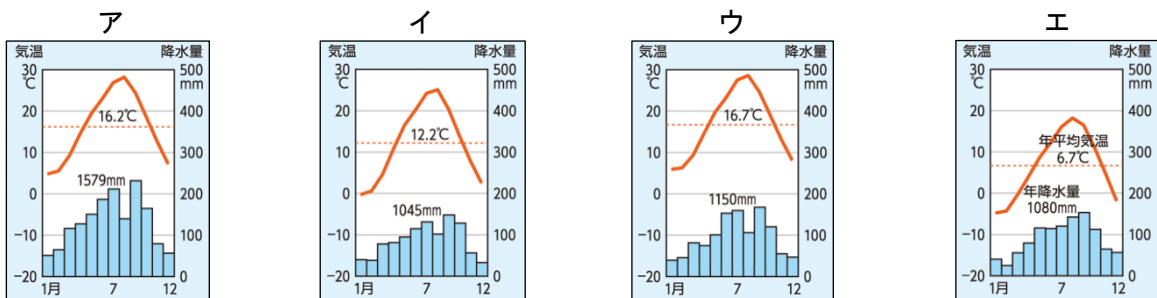
1 下線部 a について、1図を見て、日本の山地や山脈の並び方の特徴として正しいものを、次のア～エから一つ選び、記号で答えなさい。

- ア 日本全国でほぼ南北方向に山地や山脈が並んでいる。
- イ 日本全国でほぼ東西方向に山地や山脈が並んでいる。
- ウ 東日本ではほぼ東西方向、西日本ではほぼ南北方向に山地や山脈が並んでいる。
- エ 東日本ではほぼ南北方向、西日本ではほぼ東西方向に山地や山脈が並んでいる。

1図 日本の主な山地・山脈

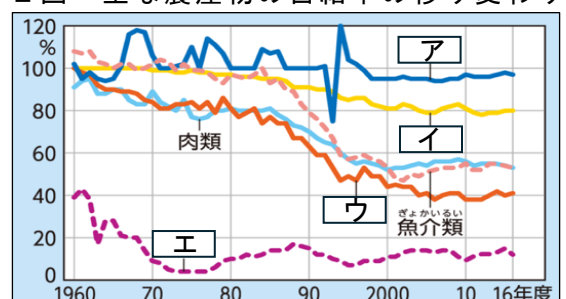


2 下線部 b について、北海道の気候と太平洋側の気候を示す雨温図を、次のア～エからそれぞれ一つずつ選び、記号で答えなさい。



3 下線部 c について、2図のア～エは、それぞれ野菜、米、小麦、果実のいずれかの自給率を表している。米に当てはまるものをア～エから一つ選び、記号で答えなさい。

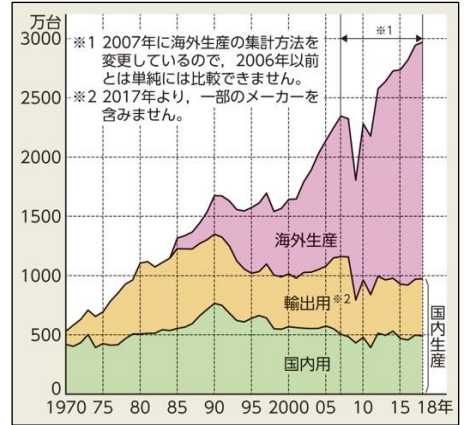
2図 主な農産物の自給率の移り変わり



4 会話文中の **X** に当てはまる言葉を書きなさい。

5 下線部 d について、日本の一部の工業では 1980 年代後半から、産業の空洞化とよばれる現象がみられるようになった。産業の空洞化とはどのような現象か、3 図を参考にして、簡単に説明しなさい。

3 図 日本の自動車生産の変化



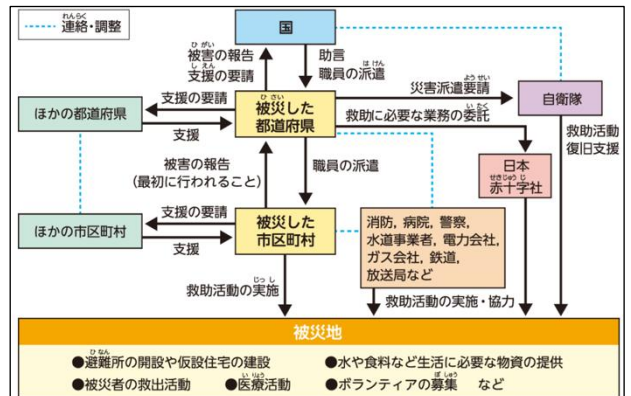
6 次の文は、下線部 e の対策を説明したものである。**Y** に当てはまる語をアルファベット 3 字で答えなさい。

地方の過疎化を防ぎ、地域を活性化させる 1 つの手段として、インターネットを活用した商品の販売やリモートワークといった **Y** の活用促進が有効である。これにより、新たな高齢者の雇用を生みだし、若者の定住を促すことが期待できる。

7 下線部 f について、4 図の読み取りとして誤っているものを、次のア～エから一つ選び、記号で答えなさい。

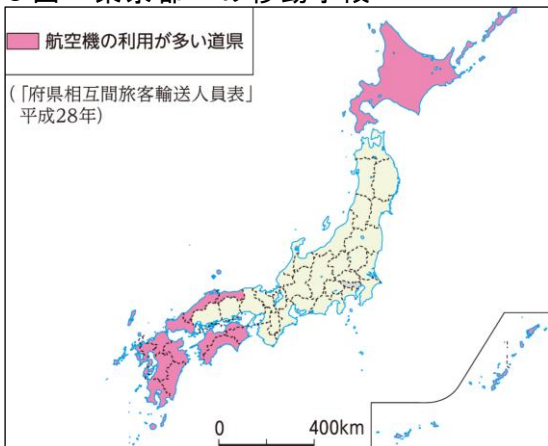
- ア 国は、被災した都道府県に助言・職員の派遣を行う。
- イ 被災した都道府県は、自衛隊に災害派遣要請を行う。
- ウ 被災した市区町村は、すべての救助活動を単独で行う。
- エ 被災地では、避難所の開設やボランティアの募集などを行う。

4 図 災害時の公的機関の活動と支援の動き

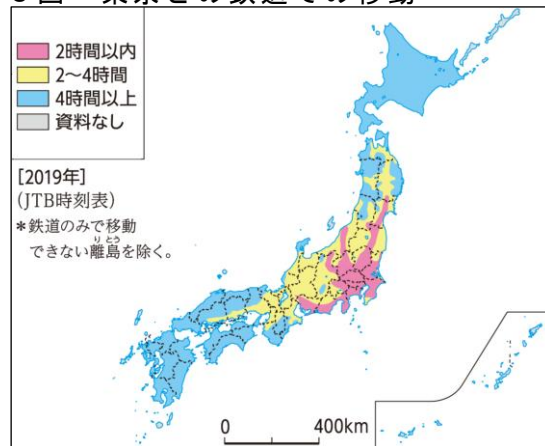


8 下線部 g について、5 図の **ピンク** の地域において、東京都への移動手段として航空機を利用する人が多い理由を、6 図を参考にして、簡単に説明しなさい。

5 図 東京都への移動手段



6 図 東京との鉄道での移動



2 次の各問いに答えなさい。

1 九州地方について、次の(1)～(4)の各問いに答えなさい。

(1) 次の文は、火山について説明したものである。[X]・[Y]に当てはまる語句の組み合わせとして正しいものを、次のア～エから一つ選び、記号で答えなさい。

火山の噴火によって、火口から噴き飛んでくる噴石や[X]などは、ときに人の命に関わる災害を引き起こす。一方で、火山は地下水を温めて、温泉を作り出す。また、電力を生み出すエネルギー産業にも利用され、国内の[Y]発電所の6割が九州地方にある。

	X	Y
ア	土石流	火力
イ	土石流	地熱
ウ	火砕流	火力
エ	火砕流	地熱

(2) 筑紫平野で盛んな農業を説明したものとして正しいものを、次のア～エから一つ選び、記号で答えなさい。

- ア ビニールハウスを利用した、きゅうりやピーマンなどの促成栽培が盛んである。
- イ 年中温暖な気候を利用した、サトウキビやパイナップルなどの栽培が盛んである。
- ウ 水はけの良い火山灰質の土地を利用した、さつまいもや茶の栽培が盛んである。
- エ 冬でも温暖な気候を利用した、二毛作による米や小麦の栽培が盛んである。

(3) 7図を見て、次の文の[P]・[Q]に当てはまる言葉を答えなさい。

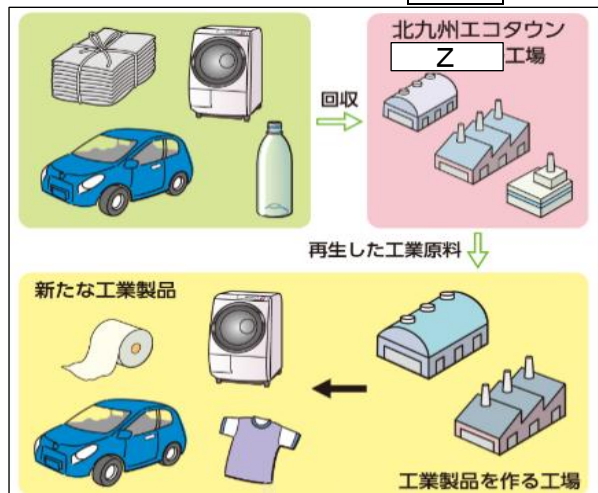
九州地方の半導体関連の工場は、[P]なため、[Q]の近くにつくられている。

(4) 8図の[Z]に当てはまる語句を、カタカナで答えなさい。

7図 九州の工業



8図 北九州エコタウンでの[Z]の流れ



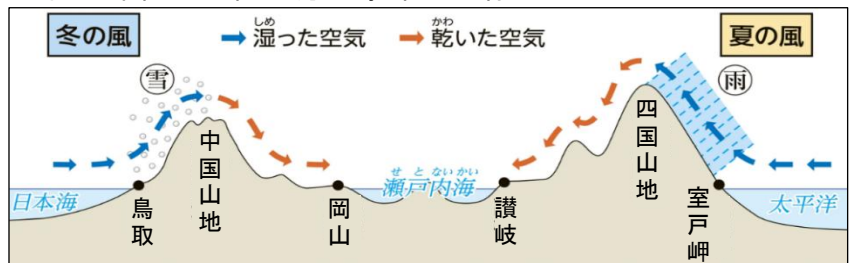
2 中国・四国地方について、次の(1)～(4)の各問いに答えなさい。

(1) 9図のように讃岐平野にため池が多くつくられた理由を、10図を参考に、「季節風」「農業用水」の語句を使って、簡単に説明しなさい。

9図 讃岐平野のため池



10図 中国・四国地方の季節風の様子



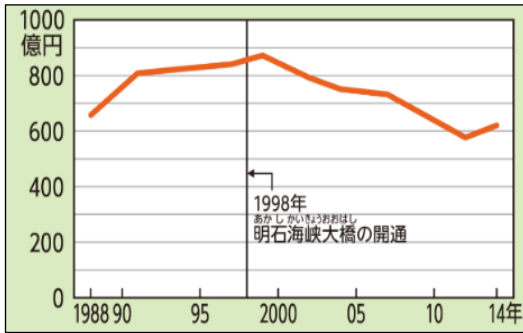
11 図 瀬戸内海の漁業の様子



(2) 瀬戸内海の波が穏やかで複雑な海岸線に囲まれた海域は、11 図のように魚介類をいけすなどで大きくなるまで育てる漁業が盛んである。この漁業を何というか、書きなさい。

(3) 12 図からは、1998 年以降、徳島市の小売業の年間商品販売額が減少していることが分かる。その理由として考えられることを、13・14 図を参考にして、簡単に説明しなさい。

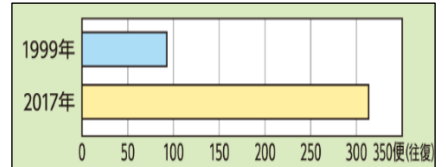
12 図 徳島市の小売業の年間商品販売額の変化



13 図 中国・四国地方の高速道路の整備



14 図 四国と近畿を結ぶ高速バスの本数の変化



(4) 過疎の課題を抱えている市町村では、地域を活性化するために、15 図のように特産品を活用して観光客を呼び寄せる取り組みを行っている。このような取り組みを何というか、書きなさい。

15 図 ゆずはじまる祭 (高知県馬路村)



3 次の各問いに答えなさい。

1 近畿地方について、次の(1)~(4)の各問いに答えなさい。

(1) 次の X・Y が示す地域を含む府県名を、それぞれ一つずつ答えなさい。

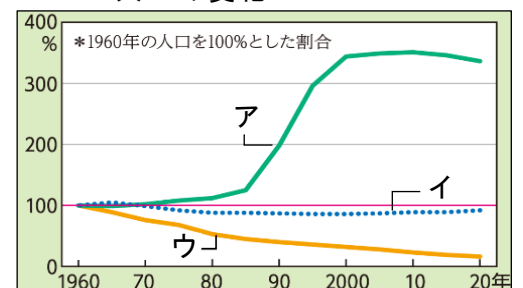
X 南北を海と山にはさまれ、平地が少なく、市街地の拡大が難しい環境にあったため、丘陵地をけずって平地を造り、ニュータウンを建設する一方、けずった土を臨海部のうめ立てや人工島の建設に利用した。

Y かつて「天下の台所」と呼ばれており、全国の特産品が集まる経済の中心地であった。2025 年には、日本国際博覧会が開催されるなど、国内外から多くの観光客が集まった。

16 図 京阪神大都市圏と琵琶湖・淀川の水利



17 図 大阪市・三田市・東吉野村の人口の変化



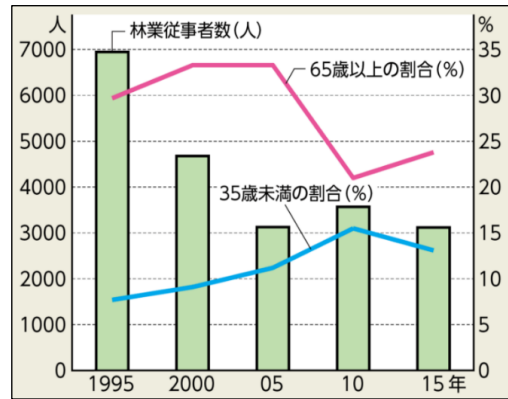
(2) 琵琶湖の水質保全が近畿地方全体での重要な課題となっている理由を、16 図を参考にして、簡単に説明しなさい。

(3) 17 図において、三田市に当てはまるものを、16 図を参考にして、ア~ウから一つ選び、記号で答えなさい。

(4) 18 図を読み取った次の文の **P** ~ **R** に当てはまる言葉を、それぞれ書きなさい。

18 図 奈良・和歌山・三重における
林業従事者の変化

林業従事者は、年々、**P** しているが、1995 年と 2015 年を比べたときに、65 歳以上の従事者の割合は **Q** し、若い後継者である 35 歳未満の割合は **R** している。



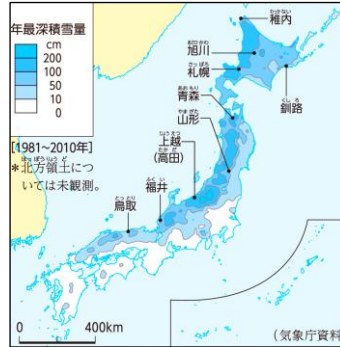
2 中部地方について、次の(1)~(5)の各問いに答えなさい。

(1) 19 図のように、北陸地方で漆器や和紙などの伝統的工芸品の生産が盛んに行われるようになった理由を、20 図を参考にして、簡単に説明しなさい。

19 図 北陸地方の主な工芸品



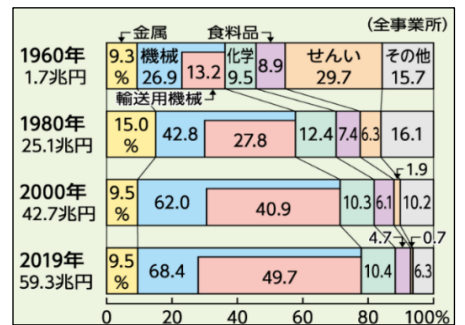
20 図 日本の積雪量



(2) 21 図から読み取れることとして正しいものを、次のア~エから 2 つ選び、記号で答えなさい。

- ア 化学の工業生産の割合は、1980 年以降は減少し続けている。
- イ 1960 年から 2019 年にかけて、工業生産額は 30 倍以上になっている。
- ウ 2000 年から 2019 年にかけて、金属の工業生産額は変化していない。
- エ 1980 年以降、機械における工業生産の割合の半分以上は輸送用機械になっている。

21 図 中京工業地帯の工業生産の移り変わり



(3) キャベツやレタスのように、長野県など標高が高いところで栽培される野菜を何というか書きなさい。

(4) 諏訪盆地の産業の変化について、22 図を参考に、「製糸業」の語句を使って、簡単に説明しなさい。

22 図 諏訪盆地の産業の変化



23 図 富士山



(5) 23 図は、2013 年に人類共通の財産として保護すべき貴重な自然環境や文化財として、国連のユネスコが採択する [] に登録された。 [] に当てはまる語句を書きなさい。

4 年表を見て、次の各問いに答えなさい。

年表

年	おもなできごと
1517	ヨーロッパで a 宗教改革が始まる
1519	マゼラン一行が世界周航に出発する
1543	日本に b 鉄砲が伝来する
1549	日本に c キリスト教が伝来する
1573	[A] 幕府が滅亡する
	信長が長篠の戦いで武田氏を破る……………↑
1577	d 楽市令が出される
1582	本能寺の変が起きる……………↑
	e 太閤検地が行われる
1587	秀吉が九州を平定する
1588	f 刀狩が行われる
1590	豊臣秀吉が全国を統一する……………↓
1592	g 文禄の役が始まる
1597	慶長の役が始まる……………↓

1 下線部 a について説明した次の文の [P]・[Q] に当てはまる語句を、それぞれ書きなさい。

16 世紀の西ヨーロッパでは、ローマ教皇が、大聖堂建築のための資金を集めようとして免罪符を売り出すと、これを批判して、ドイツでは [P] が、スイスではカルバンが宗教改革を始めた。彼らは抗議する者という意味でプロテスタントと呼ばれた。カトリック教会も、それに対抗して改革を始めた。その中心となったのは、ザビエルらが創設した [Q] であった。

2 下線部 b の後、16 世紀後半から日本ではスペイン人やポルトガル人との貿易が盛んに行われた。この貿易で日本にもたらされたものとして誤っているものを、次のア～エから一つ選び、記号でなさい。

- ア 絹織物 イ ガラス製品 ウ 火薬 エ 銀

3 下線部 c について、大名の中にはキリスト教の信者になる者が現れた。このような大名を何とよいか書きなさい。

24 図 楽市令（部分要約）

安土城下の町中に対する定め

- 一 この安土の町は楽市としたので、いろいろな [R] は廃止し、様々な税は免除する。
- 一 街道を行き来する商人は中山道を素通りせず、この町に宿をとるようにせよ。

4 年表の [A] に当てはまる語句を書きなさい。

5 下線部 d について、24 図の [R] に当てはまる語句を、漢字 1 字で書きなさい。

6 下線部 e・f により兵農分離が進んだ理由を、解答欄の形に合うように簡単に説明しなさい。

7 下線部 g について説明した次の文の **S**・**T** に当てはまる語句を、下のア～エからそれぞれ1つずつ選び、記号でなさい。

文禄の役では、豊臣秀吉は **S** の征服をめざして **T** に大軍を送り、首都の漢城を占領した。

ア 明 イ 清 ウ 朝鮮 エ 蝦夷

8 25 図が出された時期を、年表の X～Z から一つ選び、記号で答えなさい。

25 図 バテレン追放令（部分要約）

- 一 日本は神国であるから、キリスト教国が邪教を広めるのは、けしからぬことである。
- 一 バテレン（宣教師）を日本に置いておくことはできない。今日から 20 日以内に準備して帰国しなさい。

5 26 図を見て、次の各問いに答えなさい。

26 図 江戸幕府の国内外に関する政策

国内に関する政策	国外に関する政策
<p>① 大名の統制に関する政策</p> <ul style="list-style-type: none"> ・ a 武家諸法度を定めた。 <p>② 年貢に関する政策</p> <ul style="list-style-type: none"> ・ 東北地方の年貢を大阪に直接送るために A と呼ばれる海路を開いた。 ・ 徳川吉宗が新田開発を行った。 <p>③ b ききんに対する政策</p> <ul style="list-style-type: none"> ・ 老中の松平定信が c 商品作物の生産を制限した。 <p>④ 出版や風俗の統制に関する政策</p> <ul style="list-style-type: none"> ・ d 化政文化が栄えた頃に、老中の水野忠邦は政治批判や風紀を乱す小説の出版を禁止した。 	<p>① キリスト教に関する政策</p> <ul style="list-style-type: none"> ・ 徳川家光は e 鎖国とよばれる体制を完成させた。 <p>② 外交に関する政策</p> <ul style="list-style-type: none"> ・ f 琉球使節を江戸に派遣させた。 <p>③ 貿易に関する政策</p> <ul style="list-style-type: none"> ・ 老中の田沼意次は B 。 <p>④ 外国船に対する政策</p> <ul style="list-style-type: none"> ・ 水野忠邦は C 令をゆるめ、来港する外国船には燃料や食料を与えて帰すこととした。

1 下線部 a として正しいものを、次のア～エから一つ選び、記号で答えなさい。

ア

イ

ウ

エ

一 犬に限らず、すべて生類には、いつくしむ心を基本とし、憐れむことが大切である。

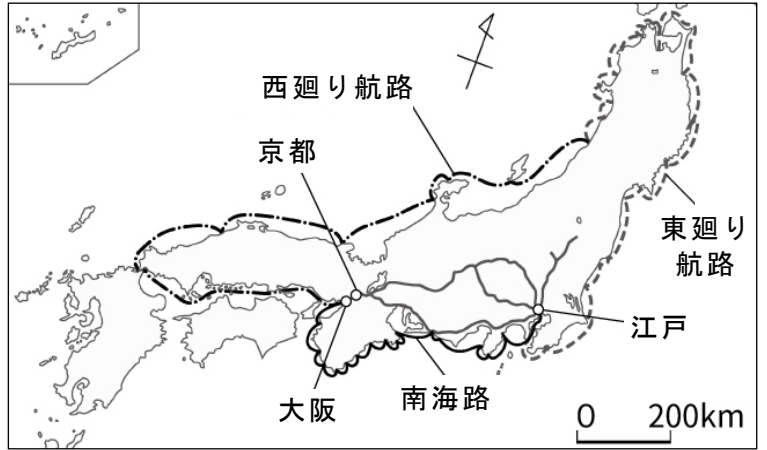
一 朝は早起きして草を刈り、昼は田畑の耕作をし、晩には縄をなつて俵を編み、それぞれの仕事におこたりなくはげむこと。

一 学問や武芸にひたすら精を出すようにせよ。
一 諸国の城は修理する場合であっても、必ず幕府に申し出ること。

一 天皇は、帝王としての教養と伝統文化の和歌を学ばなければならない。


27 図 近世の交通

2 **A** に当てはまる語句を、27 図から選び、書きなさい。



3 下線部 b が起きたときなどに都市で起こった、米を買い占めた商人などに対して行われた 28 図の出来事のことを何というか書きなさい。

28 図



4 下線部 c が行われた理由を、解答欄の書き出しに続けて簡単に説明しなさい。

5 下線部 d が栄えた頃に活躍した人物として正しいものを、次のア～エから 1 つ選び、記号で答えなさい。

- ア 葛飾北斎 イ 松尾芭蕉 ウ 近松門左衛門 エ 井原西鶴

6 下線部 e が完成されるまでの出来事について、次のア～エを年代が古い順に並べ、記号で答えなさい。

- ア 島原・天草一揆が起こり、幕府はこれを鎮圧した。
 イ 幕府がポルトガル船の来航を禁止した。
 ウ 幕領で禁教令が出され、翌年には全国に拡大した。
 エ 幕府が平戸のオランダ商館を長崎の出島に移した。

7 下線部 f について、29 図は薩摩藩が琉球使節の道具などを中国風にさせ、江戸に向かせている様子である。薩摩藩がこのようなことを行った理由を、解答欄の書き出しに続けて簡単に説明しなさい。

29 図 江戸に向かう琉球使節の一行






8 **B** に当てはまるものを、次のア～エから一つ選び、記号で答えなさい。

- ア 大名や豪商に東南アジアへの渡航を許可する朱印状を発行した。
 イ 銅を専売にして金・銀にかわる輸出品とし、倭物の輸出を拡大した。
 ウ 長崎の貿易を制限し、金・銀が海外へ流出することを防いだ。
 エ 朝鮮との国交を回復し、釜山の倭館に役人を派遣し、連絡や貿易を行った。

9 **C** に当てはまる語句を書きなさい。

6 次の各問いに答えなさい。

1 3つの国の国旗についてまとめた下の図を見て、次の(1)～(3)の各問いに答えなさい。

フランス	アメリカ合衆国	イギリス
		
パリ市の色である青と赤に、王家の旗色である白を加えたものだったが、そこに <u>a</u> フランス革命で掲げられた自由・平等・友愛の意味が込められた。	国旗は星条旗とよばれる。独立当時の国旗の星の数は、州数の13であった。その後、 <u>b</u> 州の増加に伴い、星の数も増えた。	国旗はユニオンジャックとよばれる。 <u>c</u> かつてイギリスが進出した国々の中には、ユニオンジャックを自国の国旗の一部にしている国がある。

(1) 下線部 a について、フランス革命によって税の負担はどのように変化したか、30 図を参考にして、簡単に説明しなさい。

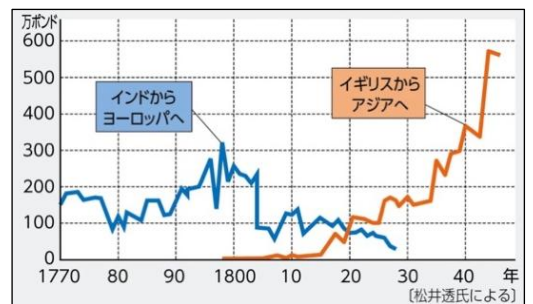
(2) 下線部 b について、国が西に拡大するにしたがって、新しい州で、奴隷制を認めるかどうかなどが問題となり、南北戦争がおこった。奴隷解放宣言を出し、この戦争で北部を勝利に導いた人物を書きなさい。

(3) 下線部 c について、イギリスはインドなどアジアの国々に進出した。その結果、31 図のように綿織物の輸出額に大きな変化が起きた。インドの綿織物の輸出よりも、イギリスの輸出が増えた理由を「価格」の語句を使って、簡単に説明しなさい。

30 図 フランス革命前後の税の負担を表した風刺画

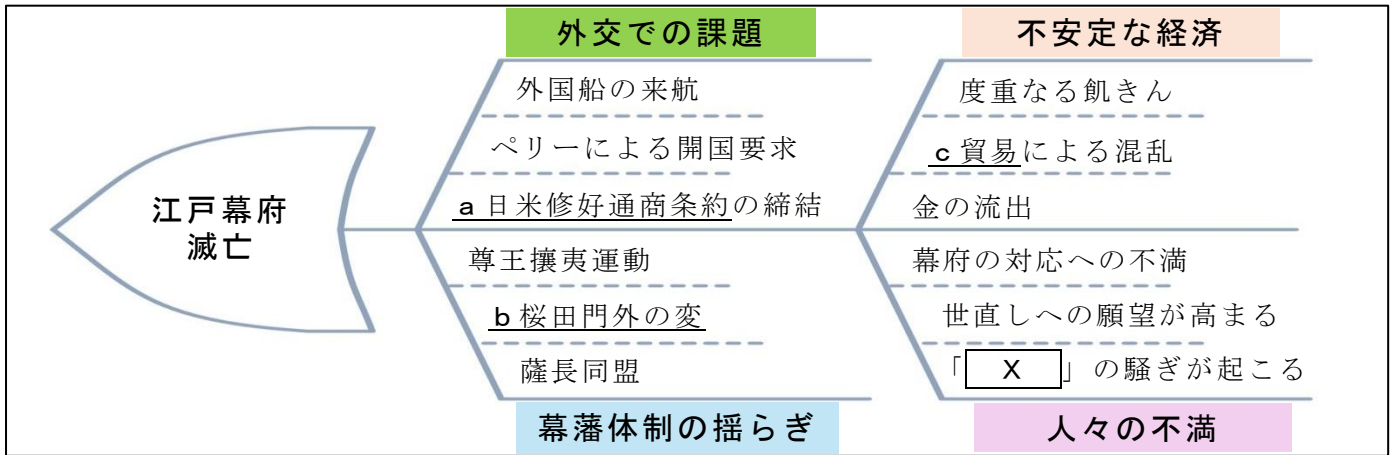


31 図 綿織物の輸出額の変化



2 32 図を見て，次の(1)～(5)の各問いに答えなさい。

32 図 江戸幕府滅亡の要因をまとめたフィッシュボーン図



(1) 下線部 a の内容として正しいものを，次のア～エから 2 つ選び，記号で答えなさい。

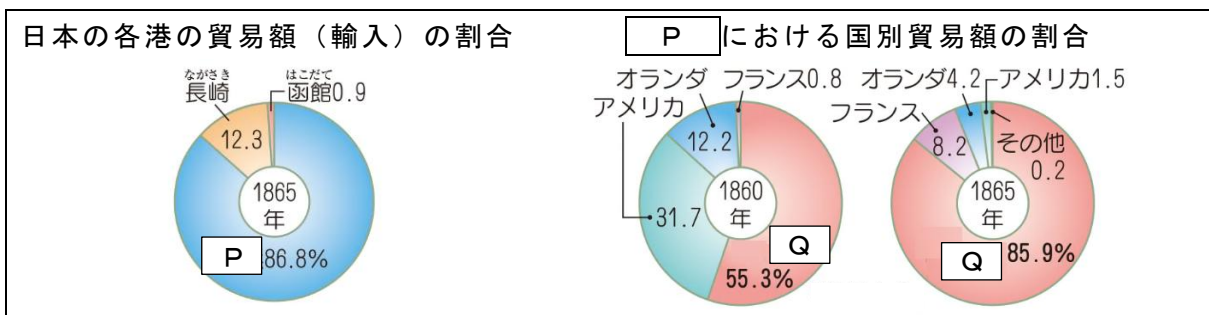
- ア アメリカ人の犯罪は，アメリカの領事が裁くことを認める。
- イ 賠償金を支払うことに加え，上海など 5 港を開港する。
- ウ アメリカ合衆国の同意なしには関税率を変えられない。
- エ 下田と函館の 2 港を開き，アメリカの領事を下田に置く。

(2) 下線部 b の内容として正しいものを，次のア～エから一つ選び，記号で答えなさい。

- ア 幕府が，攘夷論を唱えた長州藩の吉田松陰らを処刑した。
- イ 大塩平八郎が，人々の苦しむ姿を見かねて大商人をおそった。
- ウ 薩摩藩士が，藩主の父の行列を横切ったイギリス商人を殺害した。
- エ 幕府に反発する元水戸藩士たちが，大老の井伊直弼を暗殺した。

(3) 下線部 c について，33 図の **P** に当てはまる都市名と，**Q** に当てはまる国名をそれぞれ書きなさい。

33 図 幕末の貿易



(4) **X** に当てはまる，経済の混乱と不安から，34 図のように人々がお札を求めて踊り歩いた騒ぎを何というか，書きなさい。

(5) 1867 年，徳川慶喜は新たな政権の中で幕府勢力の地位を確保しようとして，天皇に政権を返上した。このことを何というか，書きなさい。

34 図

