

守っていただきたいこと

- 1 次の点にご協力ください。

**生徒のみなさんへ**

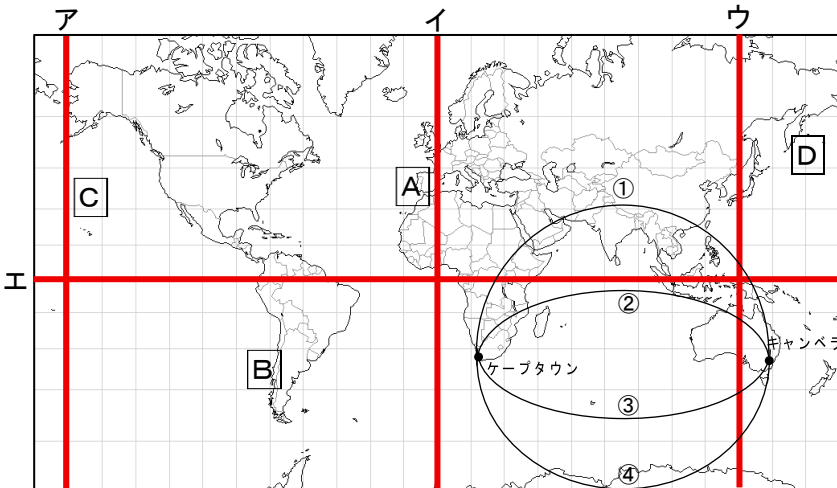
- (1) この問題用紙および解答用紙に組・番号・名前を記入し、テスト終了後、テスト監督の先生にわたしてください。
- (2) 他の中学校の生徒や、他の営利を目的とする教育機関等に対して、問題の内容を2月末日以前に話さないようにしてください。

**先生方へ**

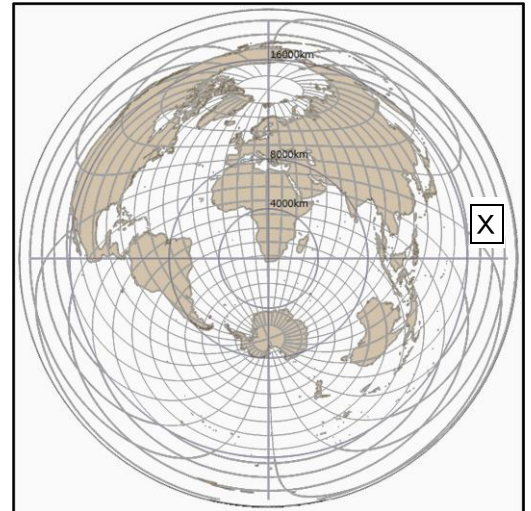
- (1) テスト監督の先生は、解答用紙および問題用紙にも生徒の組・番号・名前が記入されているのを確認した後、社会科主任の先生にわたしてください。
  - (2) 社会科主任の先生は、1月末日まで、問題用紙・解答用紙・標準解答を保管してください。
- 2 このテスト問題は、学力を客観的かつ公正に評価するためのものです。本テストの目的を理解し、不正の防止にご協力ください。
- 3 なお、このテスト問題や解答等は、本会のWebページ (<https://kumamoto-chushaken.com/>)に掲載しています（4月以降にアップ）のでご活用ください。

1 次の各問いに答えなさい。

1 図 緯線と経線が直角に交わる地図



2 図 中心からの距離と方角が正しい地図



1 1・2 図を見て、次の(1)～(3)の各問いに答えなさい。

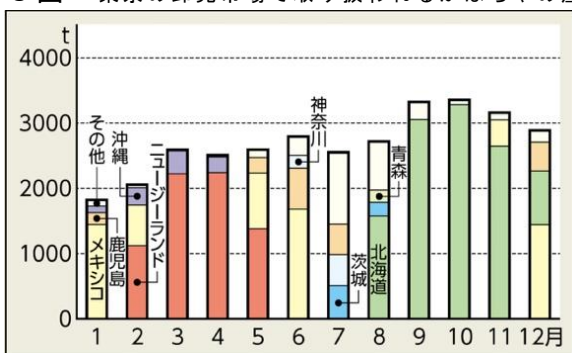
- (1) 1 図で本初子午線を示すものを、ア～エから一つ選び、記号で答えなさい。また、2 図の X の海洋を何というか、書きなさい。
- (2) 1 図のケープタウンからキャンベラ間の最短経路として正しいものを、①～④から一つ選び、記号で答えなさい。
- (3) 1 図のケープタウンと地球上で正反対の地点として最も近いものを、A～D から一つ選び、記号で答えなさい。

2 次のゆいさんとひろとさんの授業後の会話文を読んで、下の(1)～(5)の各問いに答えなさい。

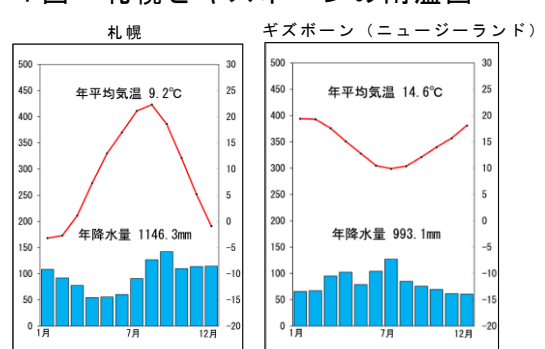
ゆい : この前の授業では、オセアニア州を学んだね。これまでさまざまな州のことが学べたよ。  
 ひろと : アジア州とオセアニア州を比べていくと、いろいろな特徴がわかってくるよね。  
 ゆい : そう！東南アジアの農業には、a 輸出向けの作物を大量に栽培している大規模な農園があるよね。  
 ひろと : それぞれ b 気候に合わせた農作物の生産もしていることがわかったよ。  
 ゆい : c 日本の輸入品にも影響しているかもしれないね。  
 ひろと : それに、多様な民族が住んでいることもわかって、d 宗教もさまざまな特徴があったね。  
 ゆい : そうだった！オーストラリアでは、かつて e 白人以外の移民を制限していたようだけど、今は民族や宗教に関係なく、さまざまな文化を尊重し合っているようだね。

- (1) 下線部 a の農園を何というか、カタカナで書きなさい。
- (2) 下線部 b について、3 図のように、2月から5月にかけてニュージーランド産のかぼちゃが東京で多く流通している理由を、4 図を参考にして、簡単に説明しなさい。

3 図 東京の卸売市場で取り扱われるかぼちゃの産地



4 図 札幌とギズボーンの雨温図



(3) 下線部 c について、5 図の A ~ C に当てはまる品目の組み合わせとして正しいものを、次のア ~ エから一つ選び、記号で答えなさい。

- ア A 牛肉 B 小麦 C 鉄鉱石
- イ A 鉄鉱石 B 小麦 C 牛肉
- ウ A 小麦 B 鉄鉱石 C 牛肉
- エ A 牛肉 B 鉄鉱石 C 小麦

5 図 日本の輸入相手国別 輸入量上位 3 か国 (2023 年)

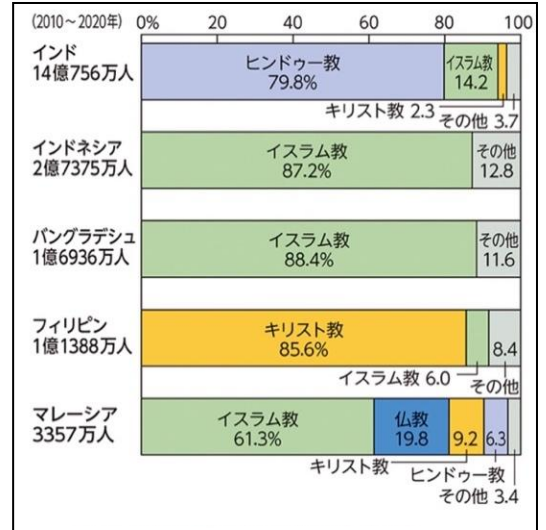
	1 位	2 位	3 位
石炭	オーストラリア	インドネシア	カナダ
A	オーストラリア	ブラジル	カナダ
B	アメリカ	カナダ	オーストラリア
C	オーストラリア	アメリカ	カナダ

「貿易統計」による

(4) 下線部 d について、6 図の読み取りとして誤っているものを、次のア ~ エから一つ選び、記号で答えなさい。

- ア ヒンドゥー教は、インド以外の国でも信仰されている。
- イ インドネシアでイスラム教を信仰する人は、バングラデシュでイスラム教を信仰する人よりも多い。
- ウ フィリピンでキリスト教を信仰する人は、フィリピンでイスラム教を信仰する人の 10 倍以上である。
- エ マレーシアで仏教を信仰する人は、600 万人以下である。

6 図 アジアの主な国の宗教別人口割合

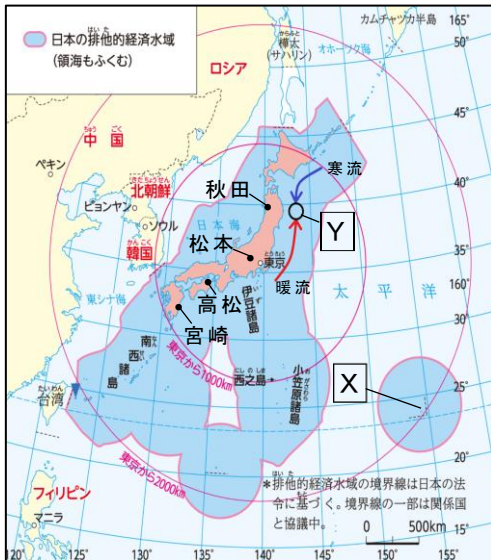


(5) 下線部 e のような政策を何というか、書きなさい。

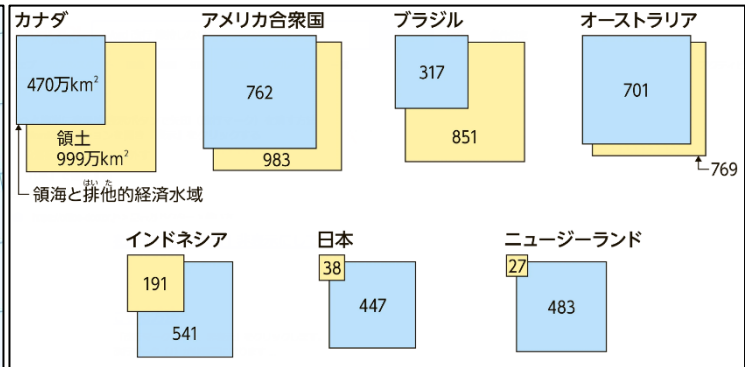
2 次の各問いに答えなさい。

1 7・8 図を見て、次の (1) ~ (4) の各問いに答えなさい。

7 図 日本のすがた



8 図 世界 7 か国の領土と領海および排他的経済水域

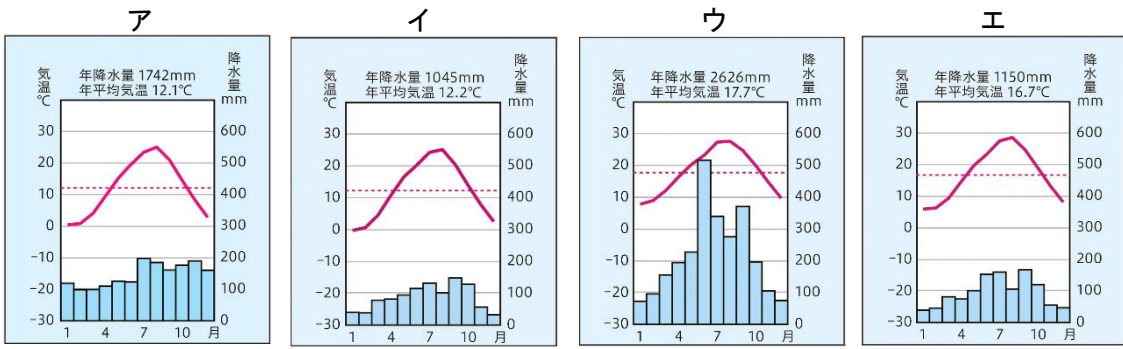


(1) 日本の東端は、さんご礁でできた島である X であり、この島が 2026 年 1 月 1 日午前 5 時 27 分に日の出を迎えたとすると、日本最西端の島は a (ア 午前 3 時 32 分 イ 午前 4 時 32 分 ウ 午前 6 時 32 分 エ 午前 7 時 32 分) に日の出を迎える。X に当てはまる島の名前を書きなさい。また、a は ( ) のア ~ エから正しいものを一つ選び、記号で答えなさい。

(2) 日本近海の漁場について述べた次の文中の **Z** に当てはまる内容を、日本列島に沿って流れる海流の名称を用いて、簡単に書きなさい。

日本の近海は豊かな漁場となっており、その形成には海流が関係している。例えば、7図の**Y**で示した三陸海岸の沖合には、**Z** ことのできる潮境（潮目）がみられ、好漁場となっている。

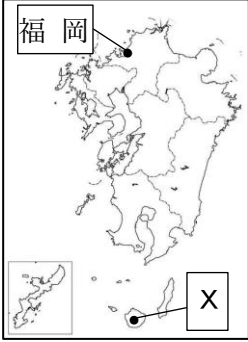
(3) 次のア～エのグラフは、それぞれ7図の秋田、松本、高松、宮崎のいずれかの都市の雨温図である。松本の雨温図として正しいものを一つ選び、記号で答えなさい。



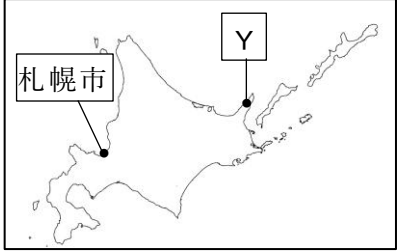
(4) 8図について、日本、インドネシア、ニュージーランドにおける「領土面積」と「領海および排他的経済水域の面積」の関係には、どのような特徴があるか。この3つの国に共通する地形的特色と関連付けて、簡単に説明しなさい。

2 はるかさんは、九州地方と北海道地方の共通点や相違点に関心をもち、調べ学習を行った。次の9～12図は、その成果をまとめたものである。これを見て、次の(1)～(5)の各問いに答えなさい。

9図 九州地方



10図 北海道地方



11図 農業経営体数と耕地面積

	農業経営体数 (単位：万)	耕地面積 (単位：ha)
北海道	3.3	114.1
九州	15.9	54.7

12図 九州地方と北海道地方の農産物生産額上位4品目（農林水産省資料「生産農業所得統計」）

福岡県	佐賀県	長崎県	大分県	宮崎県	熊本県	鹿児島県	沖縄県	北海道
<b>P</b>	<b>P</b>	<b>Q</b>	<b>P</b>	プロイラー	<b>Q</b>	<b>Q</b>	さとうきび	生乳
いちご	<b>Q</b>	豚	<b>Q</b>	<b>Q</b>	トマト	プロイラー	<b>Q</b>	<b>Q</b>
鶏卵	みかん	いちご	豚	豚	<b>P</b>	豚	豚	<b>P</b>
ぶどう	プロイラー	ばれいしょ	ねぎ	きゅうり	生乳	鶏卵	鶏卵	たまねぎ

(1) 次の文は、福岡市と札幌市について説明したものである。ア・イのうち正しいものを一つ選び、記号で答えなさい。また、文中の **A** に当てはまる語句を書きなさい。

九州で一番人口が多い都市は9図の福岡市であり、北海道で一番人口が多い都市は10図の札幌市である。この2つの都市は、都道府県の業務の一部を分担し、一般の市よりも多くのことを独自に決めることができる（**ア** 地方中枢都市 **イ** 政令指定都市）である。  
また、九州と北海道はともに自然豊かな地域であり、火山の噴火後に、マグマ溜まりが空洞になり、その上の地面が陥没してできた **A** という地形がみられる。

(2) 9・10図のX・Yは、世界自然遺産に登録されている場所である。この名称の組み合わせとして正しいものを、次のア～エから一つ選び、記号で答えなさい。

- ア X 種子島 Y 白神山地 イ X 屋久島 Y 知床半島  
 ウ X 種子島 Y 知床半島 エ X 屋久島 Y 白神山地

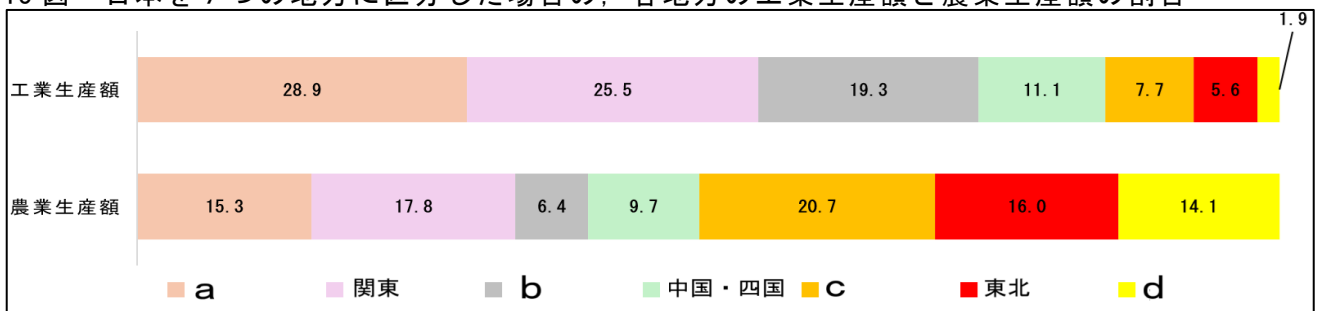
(3) 北海道地方の農業には、どのような特色があるといえるか、11図を参考に九州地方と比較して、「規模」の語句を使って、簡単に説明しなさい。

(4) 12図のP・Qに共通して当てはまる農産物を、次のア～オからそれぞれ一つずつ選び、記号で答えなさい。

- ア 米 イ 茶 ウ さつまいも エ 肉用牛 オ 小麦

(5) 13図は、日本を7つの地方に区分した場合の、それぞれの地方の工業生産額と農業生産額の割合を表した資料である。九州地方と北海道地方に当てはまるものを、a～dからそれぞれ一つずつ選び、記号で答えなさい。

13図 日本を7つの地方に区分した場合の、各地方の工業生産額と農業生産額の割合



3 14表を見て、次の各問いに答えなさい。

14表 歴史上の人物（活躍した年代の古い順）

A	中大兄皇子	Xとともに蘇我氏を倒し、645年に政治改革に着手した。 (ア 百済 イ 新羅 ウ 高句麗)の復興を助けるために大軍を送ったが、663年の白村江の戦いで敗れた。
B	白河上皇	藤原氏から政治の実権を取り戻し、院政とよばれる政治を始めた。
C	源頼朝	政治や富を独占する平氏に対して、東国の武士の支持を集めて勢力を伸ばし、兵を挙げた。その後、征夷大將軍に任じられ、a鎌倉幕府を開いた。
D	後醍醐天皇	政治の実権を武家から朝廷に取り戻そうと考えて、幕府に不満をもつ御家人や悪党を味方につけて、幕府を倒す戦いを起こした。
E	織田信長	戦国時代から安土桃山時代にかけての武将・大名で、天下統一事業をほぼ成し遂げた。さまざまな改革を行い、日本の近世社会の基礎を築いた。
F	徳川綱吉	Y

1 Xに当てはまる人物名を書きなさい。また、Aのア～ウから正しい語句を一つ選び、記号で答えなさい。

2 Bの人物のように、上皇はどのようにして政治の実権を握ったか、「摂政や関白」の語句を使って、簡単に説明しなさい。

3 Cの下線部 a に関するできごとを、年代の古いものから順に並べ、記号で答えなさい。

- ア 朝廷勢力の回復をねらう後鳥羽上皇が挙兵し、承久の乱を起こした。
- イ 幕府が生活に苦しくなった御家人を救うために、徳政令を出した。
- ウ 幕府が武士の慣習にもとづいて、御成敗式目を制定した。

4 Dの人物が政治を行っていた頃の史料を、次のア～ウから一つ選び、記号で答えなさい。

ア

世の中に 蚊ほどうるさき ものはなし 文武というて 夜も寝られず
--

イ

正長元年ヨリ サキ者カンヘ四カン カウニヨイメアル ヘカラス
---

ウ

このごろ都には やるもの、夜討ち、 強盗、にせ繪旨 召人、早馬、そらさ わぎ、生首、還俗、 自由出家
---

5 Eについて、次の(1)・(2)の各問いに答えなさい。

(1) Eの人物が行った政策の内容として誤っているものを、次のア～エから一つ選び、記号で答えなさい。

- ア キリスト教の拡大を恐れ、宣教師の海外追放を命じて布教を禁止した。
- イ 通行料を取り、流通の妨げとなっていた関所を廃止した。
- ウ 座の特権をうばい、市場の税を免除し、営業を自由にして商工業を発展させた。
- エ 将軍の足利義昭と対立し、義昭を京都から追い出して室町幕府を滅ぼした。

(2) 安土桃山時代の文化の説明として正しいものを a 群のア～ウから、その時代につくられた作品として正しいものを b 群のカ～クから、それぞれ一つずつ選び、記号で答えなさい。

- < a 群 >
- ア 武士の好みを反映した写実的で力強い文化
  - イ 大名や豪商の経済力を反映した壮大で豪華な文化。
  - ウ 皮肉やしゃれによる風刺が喜ばれた、庶民を中心に栄えた文化。

< b 群 > カ



キ



ク



6 カード F の人物についてまとめたものとして、

Y
---

 に当てはまるものを、次のア～ウから一つ選び、記号で答えなさい。

- ア 新田開発を進め、参勤交代を軽減する代わりに米を献上させる上米の制を行った。裁判や刑罰の基準を定めた公事方御定書を制定した。
- イ 年貢だけに頼る従来の政策を転換し、商品の流通や生産から得る利益によって財政の立て直しを図った。株仲間を奨励し、営業税を納めさせた。
- ウ 君主の主従関係や父子の上下関係を大切にする朱子学を奨励した。武力よりも学問や礼節を重んじる政治への転換を行った。

7 Gは、どこに入るか、次のア～オから一つ選び、記号で答えなさい。

G	聖武天皇	伝染病の流行としばしば起こる飢きんに対し、仏教の力で国を守ろうとして、都には東大寺、地方には国分寺や国分尼寺を建てさせた。
---	------	---

ア AとBの間    イ BとCの間    ウ CとDの間    エ DとEの間    オ EとFの間

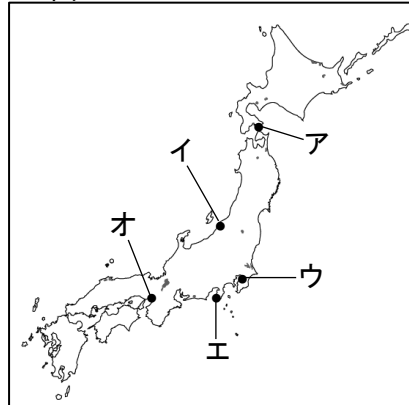
4 年表を見て、次の各問いに答えなさい。

年表

時代	年号	出来事		
江戸	1854	日米和親条約が結ばれる…………… a	↕ あ	
明治	1868	明治維新が始まる…………… b		
	1881	国会開設の勅諭が出される…………… c	↕ い	
大正	1914	第一次世界大戦がおこる…………… d		
昭和	戦前	1929	世界恐慌がおこる…………… e	↕ う
		1941	太平洋戦争が始まる	
	戦後	1970	大阪で日本万国博覧会が開かれる… f	↕ え
平成	1989	冷戦が終結する		

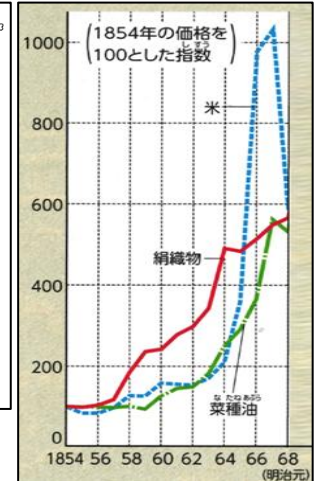
1 aについて、この条約によって開港された港を、15図のア～オから2つ選び、記号で答えなさい。

15 図



2 あ)の期間に、16図のように物価が変化した理由として正しいものを、次のア～ウから一つ選び、記号で答えなさい。

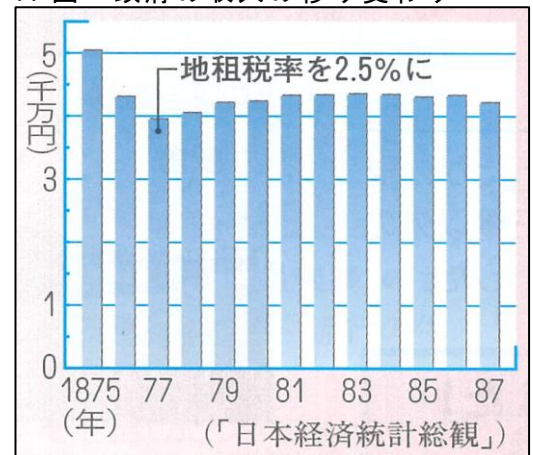
16 図 物価の変化



- ア 国内で品不足や買いしめが起こったから。
- イ 株仲間が営業を独占するようになったから。
- ウ 外国から価格が安い商品が入ってくるようになったから。

3 bの一つとして、明治政府は税についての改革を行った。税として徴収するものを米から現金に変えた理由を、17図を参考にして、簡単に説明しなさい。

17 図 政府の収入の移り変わり



4 cについて、イギリスのような議会政治をめざして、立憲改進黨をつくった人物の名前を書きなさい。

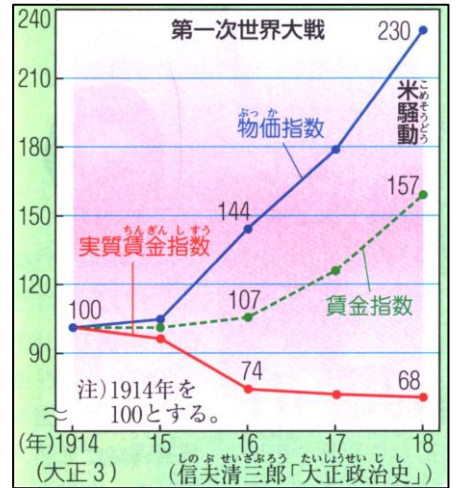
5 次の会話文は、dのあとの日本について、18・19図を参考にしてまとめたものである。X～Zに当てはまるものの組み合わせとして正しいものを、下のア～エから一つ選び、記号で答えなさい。

太郎：18図を見ると、1918年に労働争議の発生件数が大きく増加していることがわかるね。これはなぜだろう。  
 二郎：それは、19図より、XがYを上回っていたため、国民の生活が苦しかったからだと思う。  
 三郎：それに加えて、ロシアでレーニンが現れ、労働者を中心とする平等な社会を目指そうとするZの国が誕生したからではないだろうか。

18図 労働争議の発生

年	発生件数
1914	50
1916	108
1918	417

19図



- ア X 物価の上昇 Y 賃金の上昇 Z 資本主義  
 イ X 物価の上昇 Y 賃金の上昇 Z 社会主義  
 ウ X 賃金の上昇 Y 物価の上昇 Z 資本主義  
 エ X 賃金の上昇 Y 物価の上昇 Z 社会主義

6 eのあと、20図のように、各国が輸入品にかかる税を高めた理由を、簡単に説明しなさい。

20図 世界恐慌後に各国が輸入品にかけた税

	1926年	1931年
イギリス	4%	※10.0%
フランス	12	38.0
ドイツ	12	40.7
日本	16	24.0
アメリカ	29	53.0

※イギリスのみ1932年のデータ

7 次のア～ウは、5の期間の日本のようすを伝えた新聞記事である。年代の古い順に並べ、記号で答えなさい。

ア



イ



ウ



8 fについて、日本万国博覧会には海外から76か国が参加したが、①は日本との国交がなく、参加しなかった。その後、1972年に、②により、国交が正常化した。①・②に当てはまる語句の組み合わせとして正しいものを、次のア～エから一つ選び、記号で答えなさい。

- ア ① ソ連 ② 日ソ共同宣言 イ ① ソ連 ② 日ソ中立条約  
 ウ ① 中華人民共和国 ② 日中共同声明 エ ① 中華人民共和国 ② 日中平和友好条約

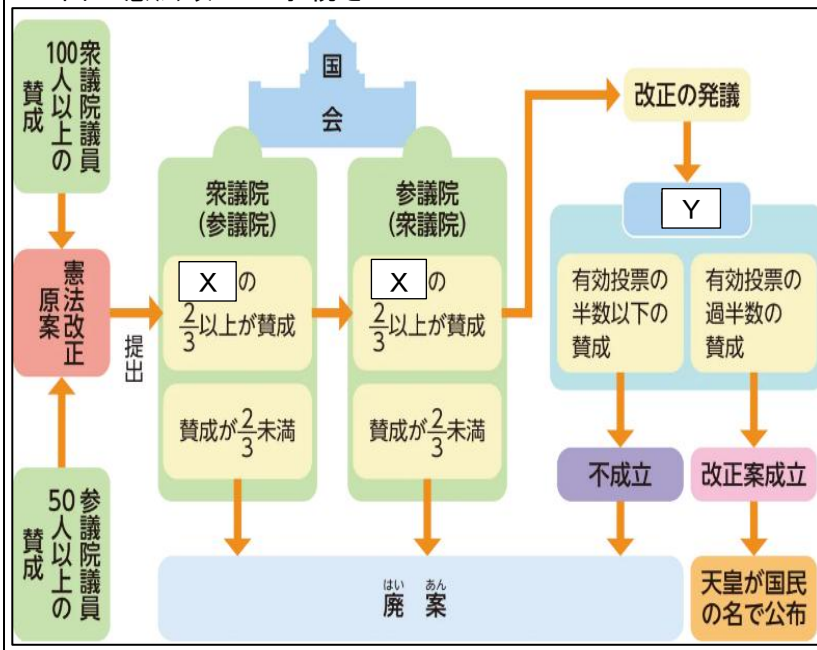
9 次の文は、年表のあ～えのどの期間に入るか、一つ選び、記号で答えなさい。

日本の自動車の輸出が増えたことで、アメリカの自動車メーカーは経営が苦しくなり、日米の間に貿易摩擦の問題が深刻化した。

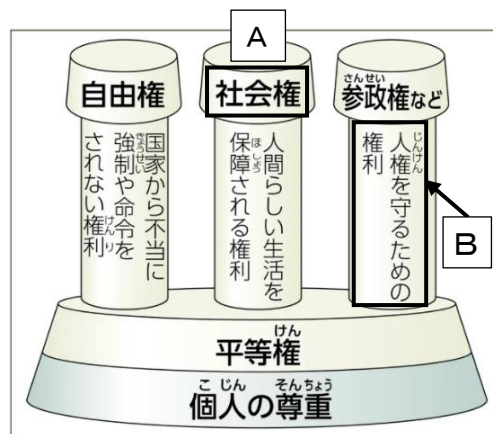
5 次の会話文を読み、下の各問いに答えなさい。

ケンジ：この前の日本国憲法の授業は、とても勉強になったね。  
 サクラ：そうだね。国家権力の濫用を防ぐために憲法が必要だという **①** 主義が大切なことを学んだね。  
 ケンジ：それに、条文もたくさん覚えたね！第1条にはこのように書かれていたよ。  
 第1条 a 天皇は、日本国の **②** であり、日本国民統合の **②** であって、この地位は、主権の存する日本国民の総意に基づく。  
 サクラ：しっかり覚えているね！最近、テレビを見ていると b 憲法改正についてよく議論されているのを見るよ。  
 ケンジ：僕もよく見るよ。21 図のような話があったよね。  
 サクラ：そういえば、基本的人権についても 22 図を見ながら学習したね。  
 ケンジ：人権にはたくさんの種類があると同時に、**③** という考えを根拠に c 人権が制限されることもあることは驚きだったな。  
 サクラ：そうだね。人権が制限されることで、私たちの私生活や個人の情報を守る、プライバシーの権利が保障されているね。  
 ケンジ：そういえば、プライバシーの権利や環境権などの権利は、なぜ d 新しい人権と言われるの？  
 サクラ：それはね、**⑤** だよ。  
 ケンジ：ありがとう。勉強になったよ！

21 図 憲法改正の手続き



22 図 基本的人権の構成



1 **①**・**②**に当てはまる語句を書きなさい。

2 下線部 a について、天皇が行う国事行為として誤っているものを、次のア～エから一つ選び、記号で答えなさい。

ア 国会の召集 イ 内閣総理大臣の指名 ウ 最高裁判所長官の任命 エ 衆議院の解散

3 下線部 b の手続きについて、21 図の **X**・**Y** に当てはまる語句の組み合わせとして正しいものを、次のア～エから一つ選び、記号で答えなさい。

ア **X** 出席議員 **Y** 国民審査 イ **X** 出席議員 **Y** 国民投票  
 ウ **X** 総議員 **Y** 国民審査 エ **X** 総議員 **Y** 国民投票

4 22 図の **A** の権利と最も関わりの深い日本国憲法の条文を、次のア～ウから一つ選び、記号で答えなさい。

ア すべて国民は、法の下に平等であって、人種、信条、性別、社会的身分又は門地により、政治的、経済的又は社会的関係において、差別されない。

イ すべて国民は、健康で文化的な最低限度の生活を営む権利を有する。国は、すべての生活部面について、社会福祉、社会保障及び公衆衛生の向上及び増進に努めなければならない。

ウ 何人も、いかなる奴隷的拘束も受けない。又、犯罪に因る処罰の場合を除いては、その意に反する苦役に服させられない。

5 22 図の **B** として誤っているものを、次のア～エから 1 つ選び、記号で答えなさい。

ア 教育を受ける権利は、個人が教育を受ける権利を持つことであり、その機会が平等に保障されるものである。

イ 裁判を受ける権利は、権利が侵害されたことを裁判所に訴えて、法律に照らして権利の侵害があったかどうか公正に判断してもらうことができる権利である。

ウ 国家賠償請求権は、国があやまって国民に損害を与えた場合に、国に損害賠償を求めることができる権利である。

エ 刑事補償請求権は、刑事裁判で無罪になったとき、それまで身柄を拘束されていたことに対して補償を求めることができる権利である。

6 下線部 c について、**③** にあてはまる語句を書きなさい。また、労働基本権が制限されている例として正しいものを、次のア～ウから一つ選び、記号で答えなさい。

ア 他人を中傷する投稿の禁止



イ 公務員のストライキ禁止



ウ デモの規制



7 下線部 d について、(1)・(2)の問いに答えなさい。

(1) この人権の根拠となっている、次の憲法の条文の **④** に当てはまる語句を書きなさい。

第 13 条 すべて国民は、個人として尊重される。生命、自由及び **④** に対する国民の権利については (中略) 最大の尊重を必要とする。

(2) **⑤** に当てはまる文を、「日本国憲法」という語句を使って書きなさい。

6 次の文を読み、各問いに答えなさい。

2025年7月20日に a 参議院議員通常選挙では、選挙の課題を解消する目的で、b 選挙区を統合する合区の取組み等が行われた。今回の選挙のように単独過半数を得る政党がなかった場合は、複数の政党が協力して X 政権を組織することもある。

政党は実現したい政策を、c テレビや新聞、インターネット等を通じて国民に伝え、国民は政治に対する意見や要望である Y を形成している。

また、d 日本とアメリカの政治制度や、国と e 地方の制度などには違いがあり、それぞれの状況に合わせた様々な形で民意を反映する政治の仕組みが作られている。

1 下線部 a について、次の(1)・(2)の各問いに答えなさい。

(1) 参議院の仕組みとして正しいものを、次のア～エから一つ選び、記号で答えなさい。

	議員定数	任期	解散	被選挙権
ア	465人	4年	なし	25歳以上
イ	465人	6年(3年ごとに半数改選)	あり	25歳以上
ウ	248人	6年(3年ごとに半数改選)	なし	30歳以上
エ	248人	4年	あり	30歳以上

(2) 23 図の読み取りとして正しいものを、次のア～エから

2つ選び、記号で答えなさい。

- ア 全国の投票率は、前回より下がっている。
- イ 2025年の投票率は、熊本が全国を上回っている。
- ウ 熊本の投票率は、前回より上がっている。
- エ 山形と徳島の投票率は、前回よりも下がっている。

23 図 参議院議員選挙の投票率の比較

	2022年	2025年
全国	52.05	58.51
熊本	49.12	59.03
山形(1位)	61.87	62.55
徳島(47位)	45.72	50.48

(単位：%)  
(総務省資料より作成)

2 下線部 b の取組みを行う目的は何か、24 図を参考にして簡単に説明しなさい。

24 図 参議院選挙区における有権者数と議員定数の変化

2013年	有権者数 (千人)	参議院の 議員定数				
神奈川	7365	4				
鳥取	482	1				
島根	587	1				
福井	648	1				
2025年	有権者数 (千人)	参議院の 議員定数				
神奈川	7712	4	合区	鳥取	449	1
				島根	539	
				福井	616	1

(総務省資料より作成)

3 X ・ Y に当てはまる語句を、それぞれ書きなさい。

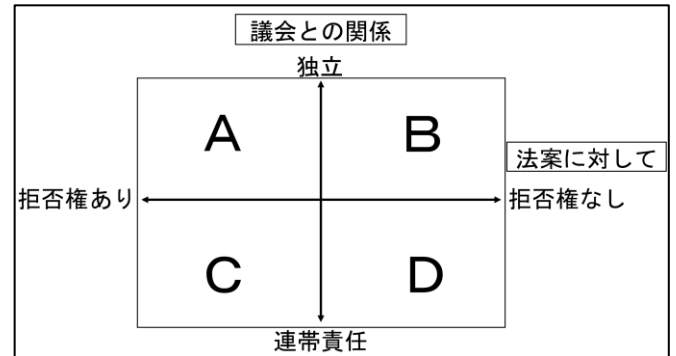
4 下線部 c について、25 図のように、同じ出来事を扱った記事でも、伝え方が異なる場合がある。このような様々な情報を、正しく使いこなしていく力を何というか、書きなさい。

25 図 参議院選挙翌日の新聞の比較 (2022 年)



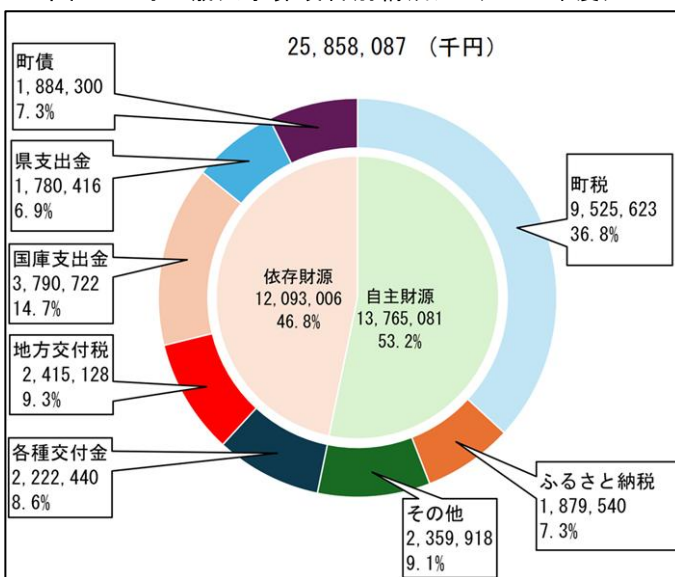
5 下線部 d について、日本の首相とアメリカの大統領は、26 図の A ~ D のどこに当てはまるか、それぞれ一つずつ選び、記号で答えなさい。

26 図 日本の首相とアメリカの大統領の比較



6 下線部 e の財政について、27・28 図を見て、次の (1)・(2) の各問いに答えなさい。

27 図 A 町の歳入予算項目別構成比 (2024 年度)



28 図 A 町のふるさと納税寄付額の推移

年度	ふるさと納税寄付額 (円)	歳入に占める割合 (%)
2020	9413 万	1.0
2021	5 億 1946 万	3.7
2022	10 億 8719 万	4.4
2023	13 億 2310 万	6.2
2024	18 億 7954 万	7.3

※千の位以下を切り捨てて算出した数値

(1) 地域間の財政格差を減らすために、国から配分される歳入予算項目を 27 図から一つ選び、書きなさい。

(2) 28 図を見ると、ふるさと納税寄付額が増えることがわかる。ふるさと納税寄付額が増えることの利点を、27 図を参考にして、簡単に説明しなさい。